



# 大きな数 5

◎ 大きな数の数直線



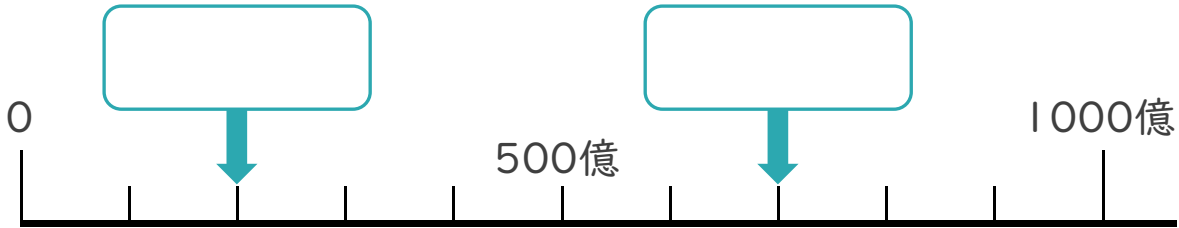
めざせ90点!



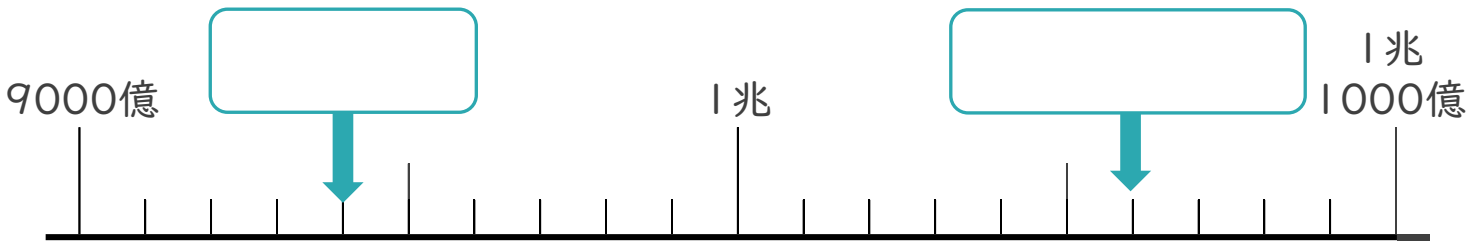
名まえ \_\_\_\_\_

1 下の数直線で、□にあてはまる数を書きましょう。(各20点)

①



②



2 □にあう数を書きましょう。(各10点)

① 10兆を7こ、100億を9こあわせた数は

一の位

--	--	--	--	--	--	--	--	--	--	--	--	--	--	--	--	--	--

です。

② 1兆を2950こ集めた数は

一の位

--	--	--	--	--	--	--	--	--	--	--	--	--	--	--	--	--	--

です。





# 大きな数 5

◎ 大きな数の数直線



めざせ90点!



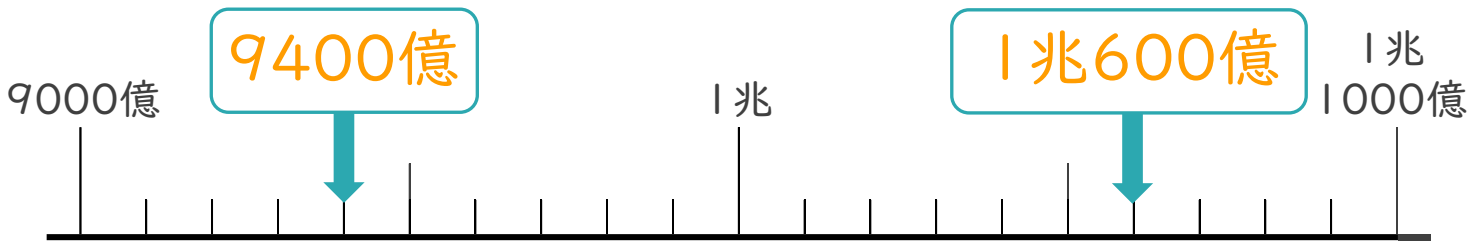
名まえ \_\_\_\_\_

1 下の数直線で、□ にあてはまる数を書きましょう。(各20点)

①



②



2 □ にあう数を書きましょう。(各10点)

① 10兆を7こ、100億を9こあわせた数は

一の位



です。

② 1兆を2950こ集めた数は

一の位



です。

