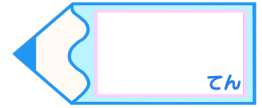


小数のかけ算4

● 小数点以下の
末尾の0を消す筆算

16

目指せ80点!



名まえ

・ 次の計算をしましょう。(各10点)

① 2.2×5

② 5.5×6

③ 2.7×4

④ 2.5×2

⑤ 1.5×6


⑥ 2.6×4

⑦ 13.8×5

⑧ 14.5×2

⑨ 21.5×4

⑩ 2.8×5

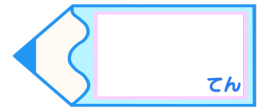


小数のかけ算4

● 小数点以下の
末尾の0を消す筆算

16

目指せ80点!



名まえ

・ 次の計算をしましょう。(各10点)

① 2.2×5

$$\begin{array}{r} 2.2 \\ \times 5 \\ \hline 11.0 \end{array}$$

② 5.5×6

$$\begin{array}{r} 5.5 \\ \times 6 \\ \hline 33.0 \end{array}$$

③ 2.7×4

$$\begin{array}{r} 2.7 \\ \times 4 \\ \hline 10.8 \end{array}$$

④ 2.5×2

$$\begin{array}{r} 2.5 \\ \times 2 \\ \hline 5.0 \end{array}$$

⑤ 1.5×6

$$\begin{array}{r} 1.5 \\ \times 6 \\ \hline 9.0 \end{array}$$

⑥ 2.6×4

$$\begin{array}{r} 2.6 \\ \times 4 \\ \hline 10.4 \end{array}$$

⑦ 13.8×5

$$\begin{array}{r} 13.8 \\ \times 5 \\ \hline 69.0 \end{array}$$

⑧ 14.5×2

$$\begin{array}{r} 14.5 \\ \times 2 \\ \hline 29.0 \end{array}$$

⑨ 21.5×4

$$\begin{array}{r} 21.5 \\ \times 4 \\ \hline 86.0 \end{array}$$

⑩ 2.8×5

$$\begin{array}{r} 2.8 \\ \times 5 \\ \hline 14.0 \end{array}$$