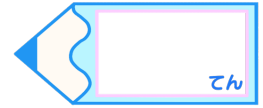


小数のわり算8

● 小数第二位までの
帯小数÷1桁の整数

16

目指せ80点!



名まえ

・ 次の計算をしなさい。(各20点)



① $73.5 \div 3$

② $5.52 \div 4$

③ $9.15 \div 5$

④ $26.6 \div 7$

⑤ $3.28 \div 4$



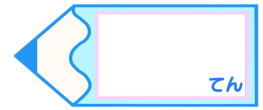


小数のわり算8

● 小数第二位までの
帯小数÷1桁の整数

16

目指せ80点!



名まえ

・ 次の計算をなさい。(各20点)

① $73.5 \div 3$

$$\begin{array}{r}
 24.5 \\
 3 \overline{)73.5} \\
 \underline{6} \\
 13 \\
 \underline{12} \\
 15 \\
 \underline{15} \\
 0
 \end{array}$$

② $5.52 \div 4$

$$\begin{array}{r}
 1.38 \\
 4 \overline{)5.52} \\
 \underline{4} \\
 15 \\
 \underline{12} \\
 32 \\
 \underline{32} \\
 0
 \end{array}$$

③ $9.15 \div 5$

$$\begin{array}{r}
 1.83 \\
 5 \overline{)9.15} \\
 \underline{5} \\
 41 \\
 \underline{40} \\
 15 \\
 \underline{15} \\
 0
 \end{array}$$

④ $26.6 \div 7$

$$\begin{array}{r}
 3.8 \\
 7 \overline{)26.6} \\
 \underline{21} \\
 56 \\
 \underline{56} \\
 0
 \end{array}$$

⑤ $3.28 \div 4$

$$\begin{array}{r}
 0.82 \\
 4 \overline{)3.28} \\
 \underline{32} \\
 8 \\
 \underline{8} \\
 0
 \end{array}$$

