



# 小数のわり算9

● 小数第二位までの  
帯小数÷2桁の整数

16

目指せ80点!



名まえ

・ 次の計算をしなさい。(各20点)

①

$$34 \overline{) 9.86}$$

②

$$19 \overline{) 6.08}$$

③



$$88.8 \div 24$$

④

$$28.8 \div 32$$

⑤

$$7.02 \div 18$$



すらすらぷりんと

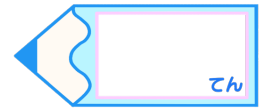


# 小数のわり算9

● 小数第二位までの  
帯小数÷2桁の整数

16

目指せ80点!



名まえ

・ 次の計算をしなさい。(各20点)

①

$$\begin{array}{r} 0.29 \\ 34 \overline{) 9.86} \\ \underline{68} \\ 306 \\ \underline{306} \\ 0 \end{array}$$

②

$$\begin{array}{r} 0.32 \\ 19 \overline{) 6.08} \\ \underline{57} \\ 38 \\ \underline{38} \\ 0 \end{array}$$

③  $88.8 \div 24$



$$\begin{array}{r} 03.7 \\ 24 \overline{) 88.8} \\ \underline{72} \\ 168 \\ \underline{168} \\ 0 \end{array}$$

④  $28.8 \div 32$

$$\begin{array}{r} 0.9 \\ 32 \overline{) 28.8} \\ \underline{288} \\ 0 \end{array}$$

⑤  $7.02 \div 18$

$$\begin{array}{r} 0.39 \\ 18 \overline{) 7.02} \\ \underline{54} \\ 162 \\ \underline{162} \\ 0 \end{array}$$



すらすらぷりん