




直方体や立方体

◎ 展開図と平行・垂直

16

目指せ80点!



名まえ

1 下の立方体の展開図を組み立てます。

① 面㊦に平行な面はどれですか。(20点)

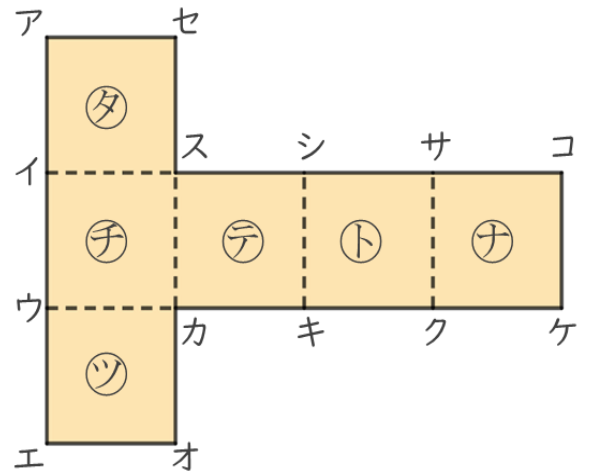
答え

② 面㊦に垂直な面はどれですか。

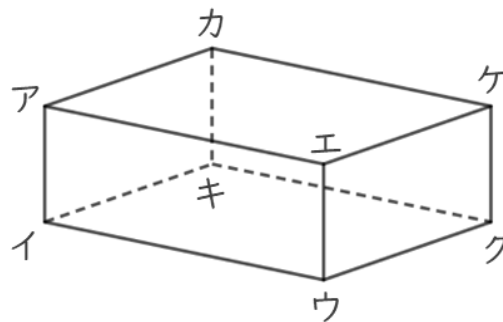
答え

③ 辺シサに垂直な面はどれですか。(20点)

答え



2 面と面の関係について調べましょう。



① 面エウクケと垂直な面を全部書きましょう。(20点)

答え

② 面カアエケと平行な面を書きましょう。(20点)

答え



直方体や立方体 16

◎ 展開図と平行・垂直

16

目指せ80点!



名まえ _____

1 下の立方体の展開図を組み立てます。

① 面㊦に平行な面はどれですか。(20点)

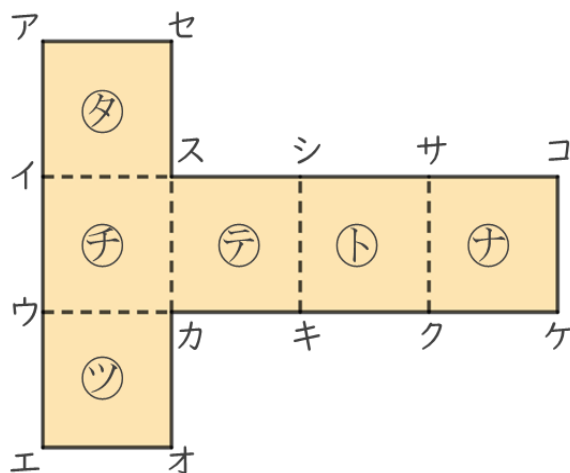
答え 面㊦

② 面㊦に垂直な面はどれですか。

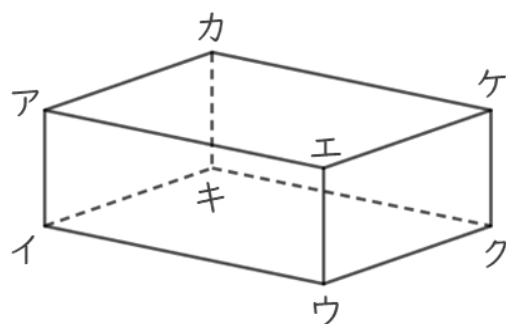
答え 面㊧, 面㊨, 面㊩, 面㊪

③ 辺シサに垂直な面はどれですか。(20点)

答え 面㊨, 面㊪



2 面と面の関係について調べましょう。



① 面エウクケと垂直な面を全部書きましょう。(20点)

答え 面カアエケ, 面アイウエ, 面キイウク, 面カキクケ

② 面カアエケと平行な面を書きましょう。(20点)

答え 面キイウク

