



小数のわり算 12

● 帯小数の"あまり"を求める

16

目指せ80点!



名まえ

1 次の筆算をしましょう。商は一の位まで求め、あまりもだしましょう。

(各20点)

① $25.2 \div 4$



② $26.6 \div 8$

③ $43.4 \div 8$

2 次の計算を筆算でしましょう。(各20点)

① $0.27 \div 9$

② $4.37 \div 23$



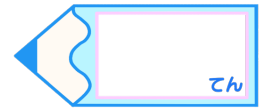


小数のわり算 12

● 帯小数の"あまり"を求める

16

目指せ80点!



名まえ

1 次の筆算をしましょう。商は一の位まで求め、あまりもだしましょう。

(各20点)

① $25.2 \div 4$

$$\begin{array}{r}
 6 \\
 4 \overline{) 25.2} \\
 \underline{24} \\
 1 2
 \end{array}$$

② $26.6 \div 8$

$$\begin{array}{r}
 3 \\
 8 \overline{) 26.6} \\
 \underline{24} \\
 2 6
 \end{array}$$

③ $43.4 \div 8$

$$\begin{array}{r}
 5 \\
 8 \overline{) 43.4} \\
 \underline{40} \\
 3 4
 \end{array}$$



2 次の計算を筆算でしましょう。(各20点)

① $0.27 \div 9$

$$\begin{array}{r}
 0.03 \\
 9 \overline{) 0.27} \\
 \underline{27} \\
 0
 \end{array}$$

② $4.37 \div 23$

$$\begin{array}{r}
 0.19 \\
 23 \overline{) 4.37} \\
 \underline{23} \\
 207 \\
 \underline{207} \\
 0
 \end{array}$$



すらすらぷりん