




# 小数のわり算 12

◎ 帯小数の"あまり"を求める

16

目指せ80点!



名まえ

1 次の筆算をしましょう。商は一の位まで求め、あまりもだしましょう。

(各20点)

①  $25.2 \div 4$




②  $26.6 \div 8$


③  $43.4 \div 8$


2 次の計算を筆算でしましょう。(各20点)

①  $0.27 \div 9$


②  $4.37 \div 23$




# 小数のわり算 12

◎ 帯小数の"あまり"を求める

16

目指せ80点!



名まえ

1 次の筆算をしましょう。商は一の位まで求め、あまりもだしましょう。

(各20点)

①  $25.2 \div 4$

		6	
4	)	25.2	
		24	
		12	

②  $26.6 \div 8$

		3	
8	)	26.6	
		24	
		26	

③  $43.4 \div 8$

		5	
8	)	43.4	
		40	
		34	

2 次の計算を筆算でしましょう。(各20点)

①  $0.27 \div 9$

		0.03	
9	)	0.27	
		27	
		0	

②  $4.37 \div 23$

		0.19	
23	)	4.37	
		23	
		207	
		207	
		0	

