



垂直、平行と 四角形 7 16

● 平行な直線をひく

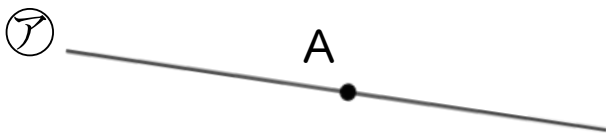
目指せ75点!



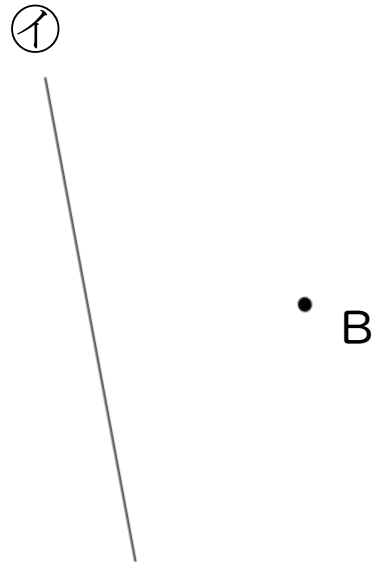
名まえ _____

1 2まいの三角じょうぎを使って、次の点を通り、直線に垂直な直線をひきましょう。(各25点)

①

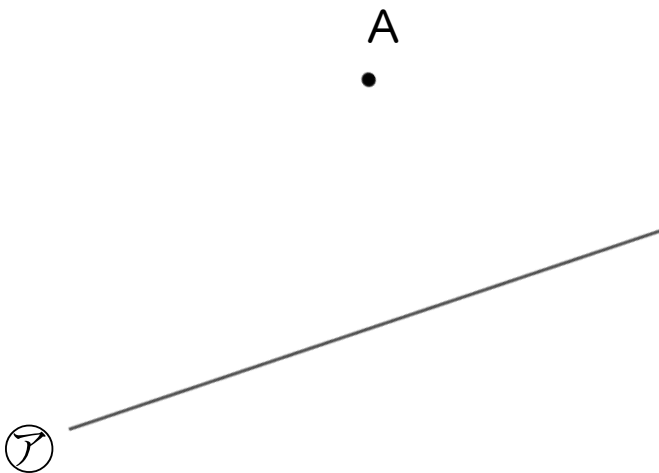


②

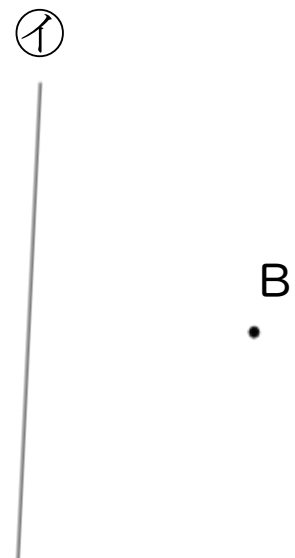


2 2まいの三角じょうぎを使って、次の点を通り、直線に平行な直線をひきましょう。(各25点)

①



②






垂直, 平行と 四角形 7 16

● 平行な直線をひく

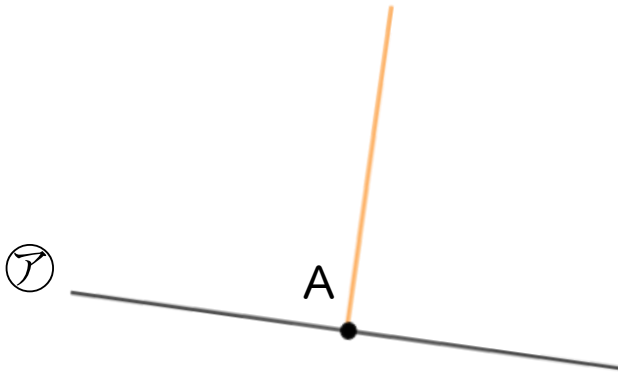
目指せ75点!



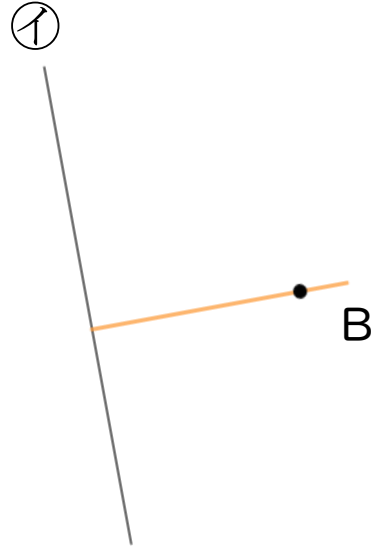
名まえ _____

1 2まいの三角じょうぎを使って、次の点を通り、直線に垂直な直線をひきましょう。(各25点)

①

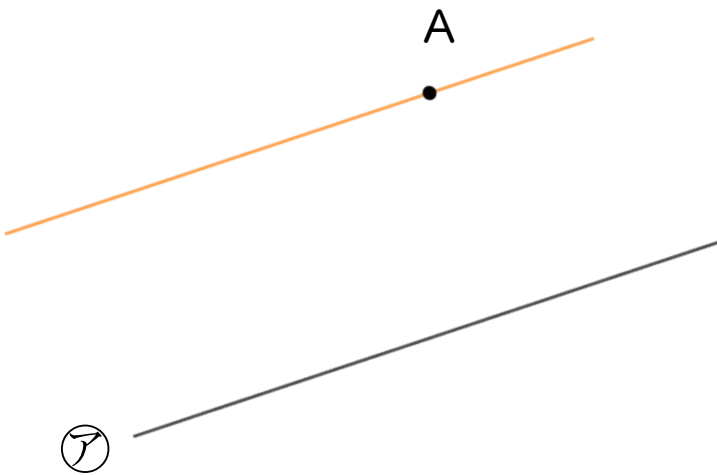


②



2 2まいの三角じょうぎを使って、次の点を通り、直線に平行な直線をひきましょう。(各25点)

①



②

