



小数の表し方5

16

◎ 数直線の読みとり

目指せ90点!



名まえ _____

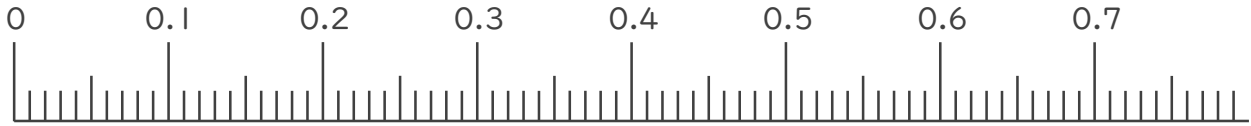
1. 次の小数を表すめもりに ↑ を書きましょう。(各10点)

① 0.05

② 0.11

③ 0.59

④ 0.62



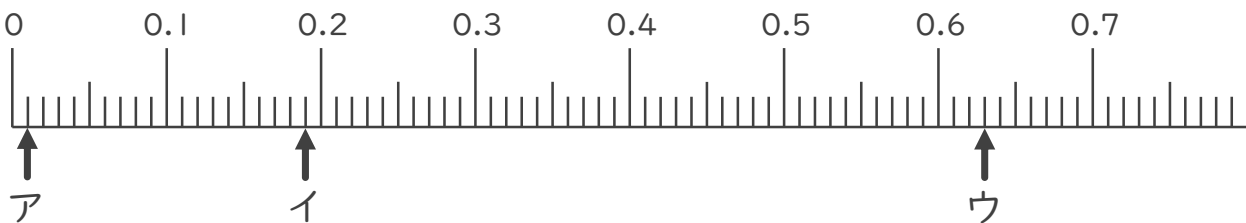
⑤ 0.96

⑥ 1.01

⑦ 1.48



2. 次の数直線でア～オが表す数を答えましょう。(各10点)



ア

イ

ウ





小数の表し方5

16

◎ 数直線の読みとり

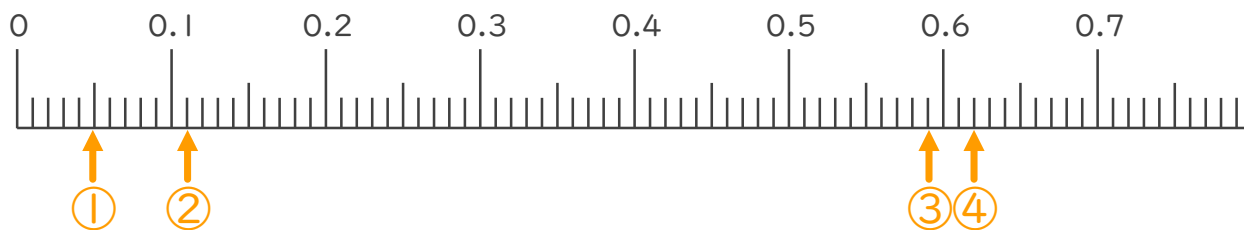
目指せ90点!



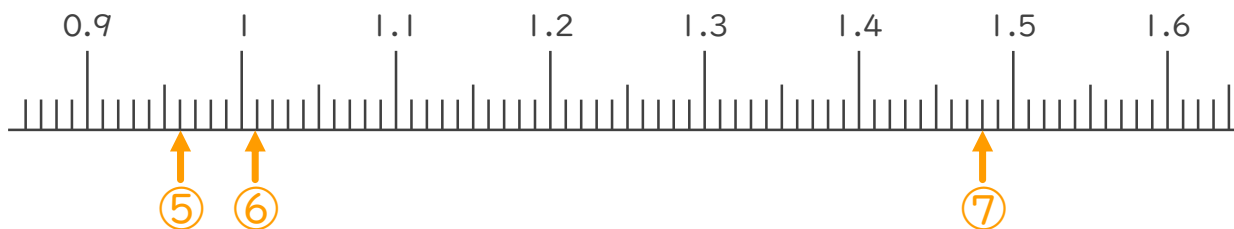
名まえ _____

1. 次の小数を表すめもりに ↑ を書きましょう。(各10点)

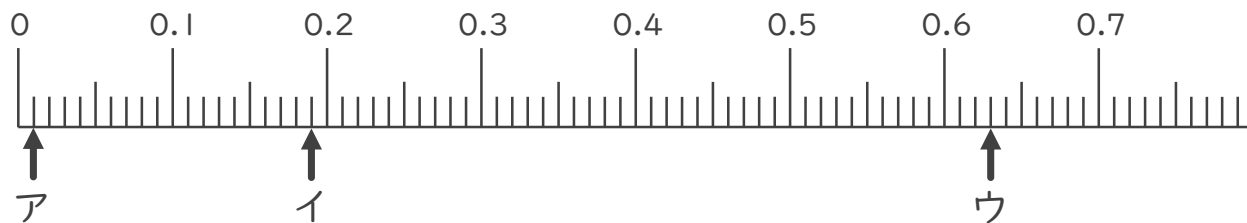
- ① 0.05 ② 0.11 ③ 0.59 ④ 0.62



- ⑤ 0.96 ⑥ 1.01 ⑦ 1.48



2. 次の数直線でア～オが表す数を答えましょう。(各10点)



ア 0.01

イ 0.19

ウ 0.63

