

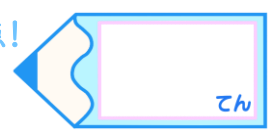


小数の表し方5

◎ 数直線の読みとり

16

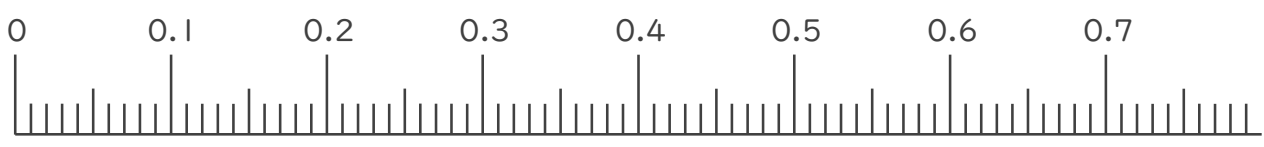
目指せ90点!



名まえ _____

1. 次の小数を表すめもりに ↑ を書きましょう。(各10点)

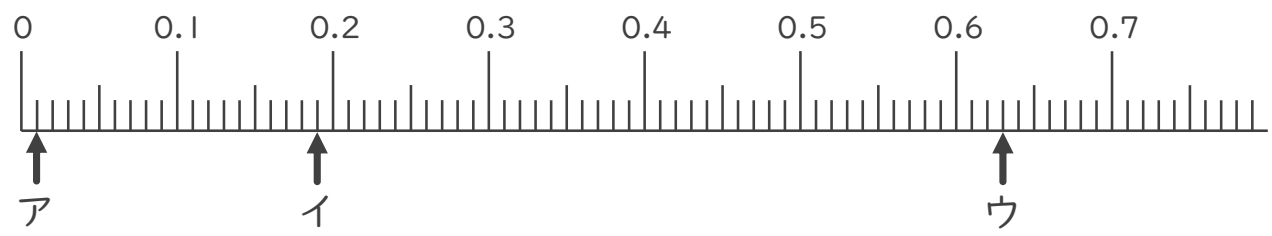
- ① 0.05 ② 0.11 ③ 0.59 ④ 0.62



- ⑤ 0.96 ⑥ 1.01 ⑦ 1.48



2. 次の数直線でア～ウが表す数を答えましょう。(各10点)



ア _____ イ _____ ウ _____



小数の表し方5

16

◎ 数直線の読みとり

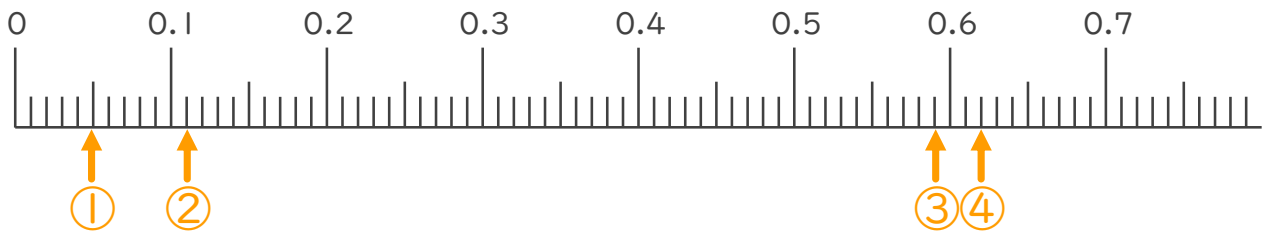
目指せ90点!



名まえ _____

1. 次の小数を表すめもりに ↑ を書きましょう。(各10点)

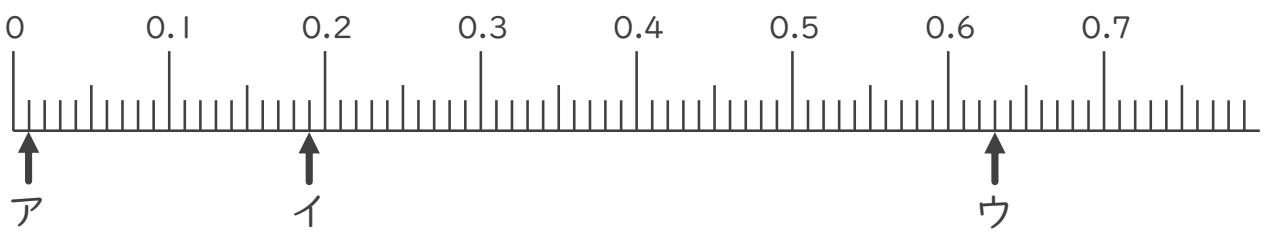
- ① 0.05
- ② 0.11
- ③ 0.59
- ④ 0.62



- ⑤ 0.96
- ⑥ 1.01
- ⑦ 1.48



2. 次の数直線でア～ウが表す数を答えましょう。(各10点)



ア 0.01 イ 0.19 ウ 0.63

