



# 小数の表し方8

㊦ 数直線の読みとり  
(小数第三位)

16

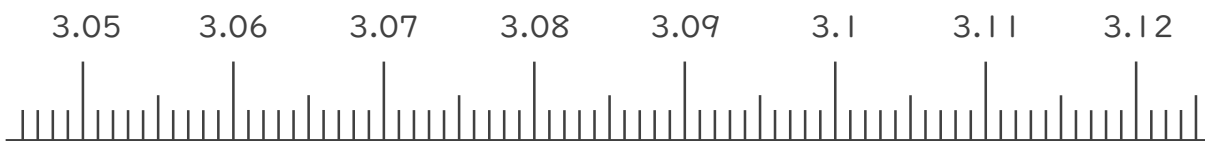
目指せ90点!



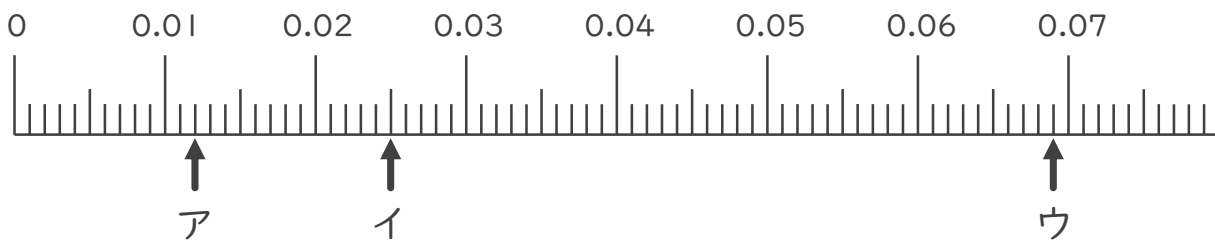
名まえ \_\_\_\_\_

1. 次の小数を表すめもりに ↑ を書きましょう。(各10点)

- ① 3.051
- ② 3.065
- ③ 3.092
- ④ 3.102
- ⑤ 3.118



2. 次の数直線でア～ウが表す数を答えましょう。(各10点)



ア \_\_\_\_\_      イ \_\_\_\_\_      ウ \_\_\_\_\_

3. 次の問いに答えましょう。

① 0.01m は 0.001m を何こ集めたかさですか？

答え \_\_\_\_\_

② 0.018m は 0.001m を何こ集めたかさですか？

答え \_\_\_\_\_





# 小数の表し方8

㊦ 数直線の読みとり  
(小数第三位)

16

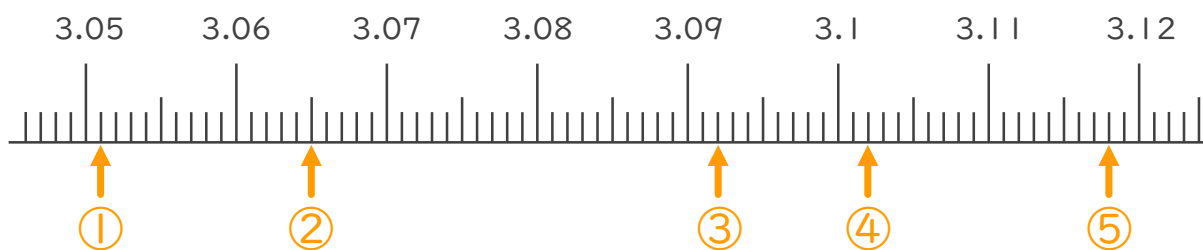
目指せ90点!



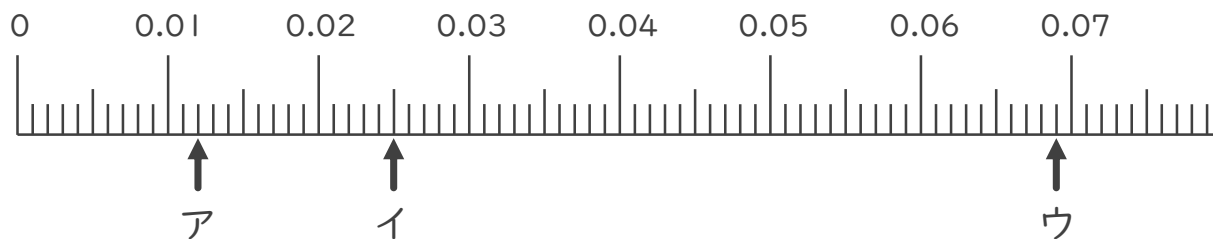
名まえ \_\_\_\_\_

1. 次の小数を表すめもりに ↑ を書きましょう。(各10点)

- ① 3.051      ② 3.065      ③ 3.092      ④ 3.102
- ⑤ 3.118



2. 次の数直線でア～ウが表す数を答えましょう。(各10点)



ア 0.012      イ 0.025      ウ 0.069

3. 次の問いに答えましょう。

① 0.01m は 0.001m を何こ集めたかさですか？

答え 10こ

② 0.018m は 0.001m を何こ集めたかさですか？

答え 18こ

