



角の大きさ 00

● 時計回りの角の作図



めざせ75点!




名まえ _____

・ 点アを頂点として、次の大きさの角をかきましょう。(各25点)

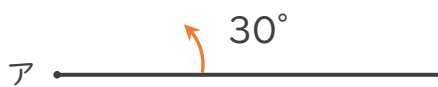
① 50°

② 100°



③ 30°

④ 135°





角の大きさ 00

● 時計回りの角の作図

16

めざせ75点!

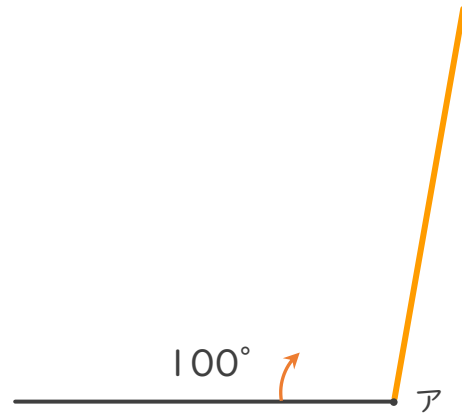
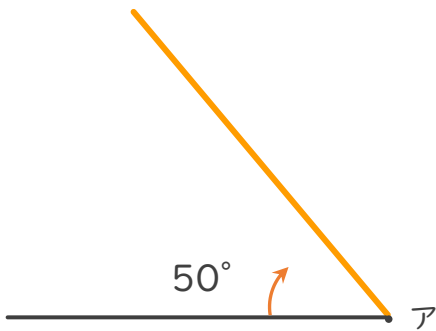


名まえ _____

・ 点アを頂点として、次の大きさの角をかきましょう。(各25点)

① 50°

② 100°



③ 30°

④ 135°

