

小数の表し方4

16

◎ 水のかさをぬる

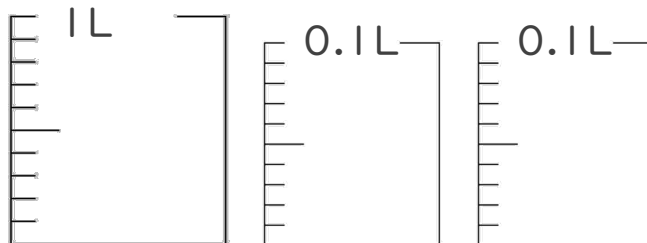
点数 点

目指せ80点!

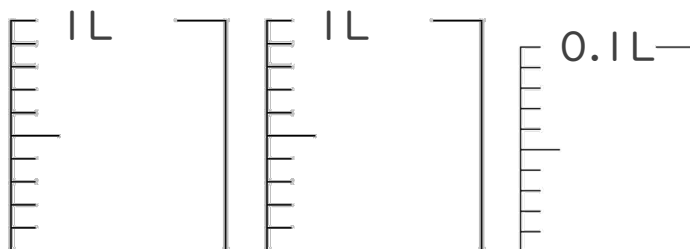
名まえ _____

1. 次の水のかさの分だけ色をぬりましょう。(各20点)

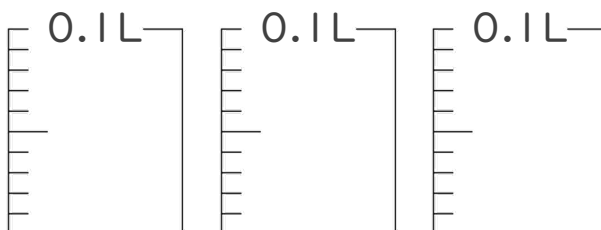
① 1.13 L



② 2.09 L

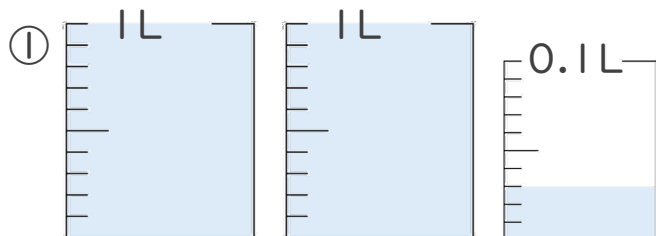


③ 0.25 L

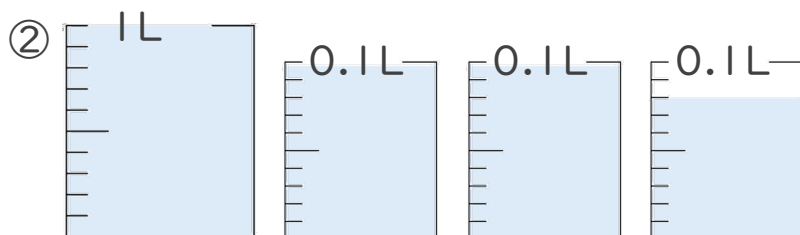


2. 1L入る水さしと、0.1L入る水さしがあります。

水さしに入っている水のかさを、L単位で表しましょう。(各20点)




答え _____



答え _____





小数の表し方4

16

◎ 水のかさをぬる

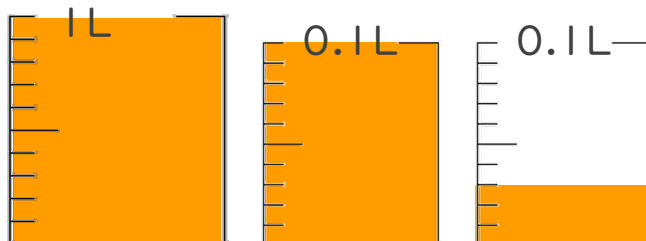
点数 点

目指せ80点!

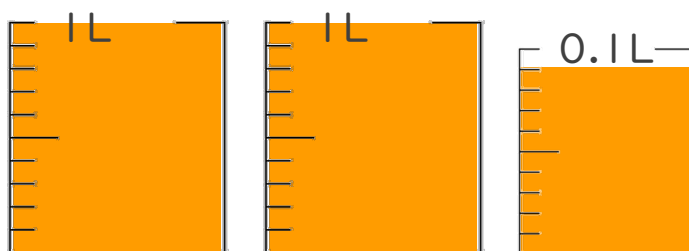
名まえ _____

1. 次の水のかさの分だけ色をぬりましょう。(各20点)

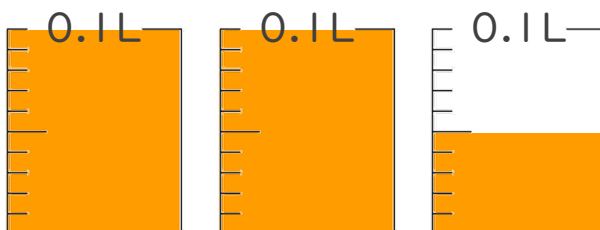
① 1.13 L



② 2.09 L

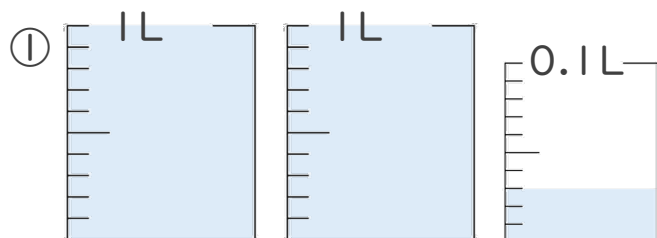


③ 0.25 L

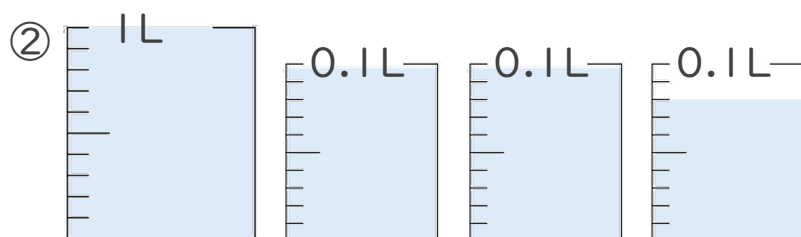


2. 1L入る水さしと、0.1L入る水さしがあります。

水さしに入っている水のかさを、L単位で表しましょう。(各20点)



答え 2.03L



答え 1.28L

