



分数 (分数の表し方) ①

● 真分数・帯分数・仮分数とは



めざせ90点!



名まえ _____

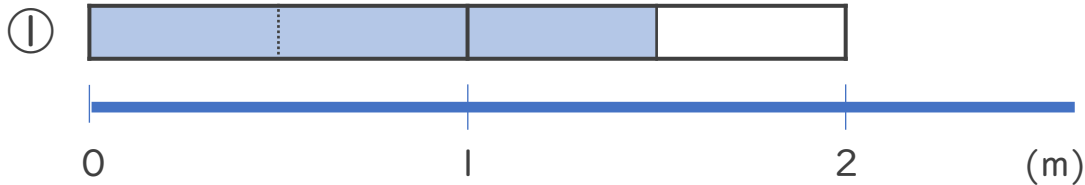
1 次の分数は、真分数、仮分数、帯分数のどれですか。(各10点)

- ① $\frac{2}{9}$ ② $\frac{8}{5}$ ③ $1\frac{1}{6}$ ④ $\frac{7}{7}$ ⑤ $\frac{13}{4}$ ⑥ $4\frac{2}{3}$

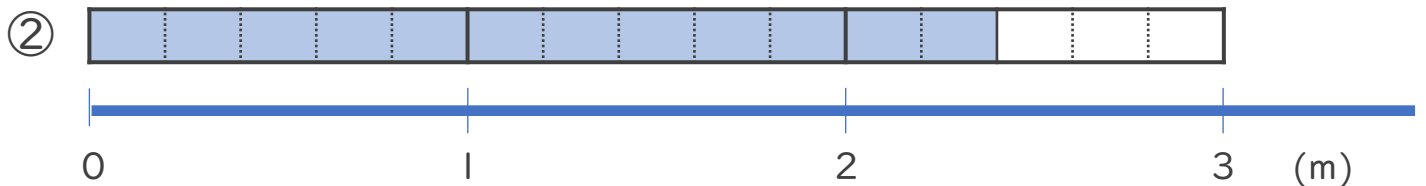
答え：① _____ ② _____ ③ _____

④ _____ ⑤ _____ ⑥ _____

2 色をぬった部分の長さを、仮分数と帯分数の両方で表しましょう。(各10点)



答え：仮分数… _____ 帯分数… _____



答え：仮分数… _____ 帯分数… _____



分数 (分数の表し方) ①

● 真分数・帯分数・仮分数とは



めざせ90点!



てん

名まえ _____

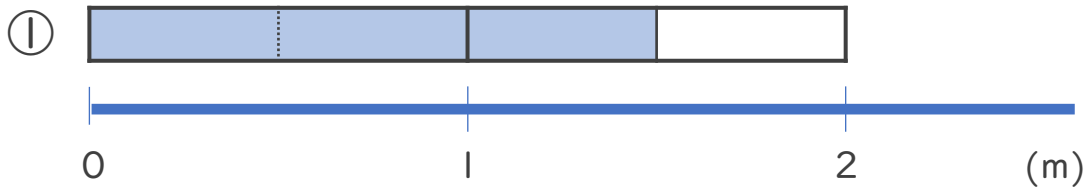
1 次の分数は、真分数、仮分数、帯分数のどれですか。(各10点)

- ① $\frac{2}{9}$ ② $\frac{8}{5}$ ③ $1\frac{1}{6}$ ④ $\frac{7}{7}$ ⑤ $\frac{13}{4}$ ⑥ $4\frac{2}{3}$


答え：① 真分数 ② 仮分数 ③ 帯分数

④ 仮分数 ⑤ 仮分数 ⑥ 帯分数

2 色をぬった部分の長さを、仮分数と帯分数の両方で表しましょう。(各10点)



答え：仮分数… $\frac{3}{2}$ 帯分数… $1\frac{1}{2}$



答え：仮分数… $\frac{12}{5}$ 帯分数… $2\frac{2}{5}$