



# 小数のわり算 13

真小数の"あまり"を求める

16

目指せ80点!



名まえ

・次の筆算をしましょう。商は一の位まで求め、あまりもだしましょう。

(各20点)


①  $19.9 \div 5$


②  $40.2 \div 8$

③  $16.8 \div 2$

④  $38.3 \div 7$

⑤  $18.4 \div 3$



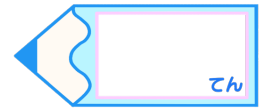


# 小数のわり算 13

真小数の"あまり"を求める

# 16

目指せ80点!



## 名まえ

・次の筆算をしましょう。商は一の位まで求め、あまりもだしましょう。

(各20点)

①  $19.9 \div 5$

$$\begin{array}{r}
 3 \\
 5 \overline{) 19.9} \\
 \underline{15} \phantom{.} \\
 4 \downarrow 9
 \end{array}$$

②  $40.2 \div 8$

$$\begin{array}{r}
 5 \\
 8 \overline{) 40.2} \\
 \underline{40} \phantom{.} \\
 0 \downarrow 2
 \end{array}$$

③  $16.8 \div 2$

$$\begin{array}{r}
 8 \\
 2 \overline{) 16.8} \\
 \underline{16} \phantom{.} \\
 0 \downarrow 8
 \end{array}$$

④  $38.3 \div 7$

$$\begin{array}{r}
 5 \\
 7 \overline{) 38.3} \\
 \underline{35} \phantom{.} \\
 3 \downarrow 3
 \end{array}$$

⑤  $18.4 \div 3$

$$\begin{array}{r}
 6 \\
 3 \overline{) 18.4} \\
 \underline{18} \phantom{.} \\
 0 \downarrow 4
 \end{array}$$

