

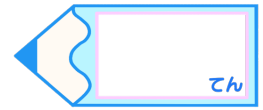


# 小数のかけ算3

● 繰り上がりのある  
帯小数×1桁の整数の筆算



目指せ80点!



てん

名まえ

・次の計算をしましょう。(各10点)

①  $0.9 \times 1 =$

②  $0.7 \times 2 =$

③  $0.2 \times 6 =$

④  $0.4 \times 8 =$

⑤  $4.3 \times 2$


⑥  $7.9 \times 4$

⑦  $4.2 \times 4$

⑧  $1.8 \times 6$

⑨  $3.3 \times 5$

⑩  $9.2 \times 3$

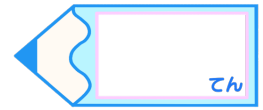


# 小数のかけ算3

● 繰り上がりのある  
帯小数×1桁の整数の筆算



目指せ80点!



てん

名まえ

・ 次の計算をしましょう。(各10点)

①  $0.9 \times 1 = 0.9$

②  $0.7 \times 2 = 1.4$

③  $0.2 \times 6 = 1.2$

④  $0.4 \times 8 = 3.2$

⑤  $4.3 \times 2$

4.3
× 2
8.6

⑥  $7.9 \times 4$

7.9
× 4
31.6

⑦  $4.2 \times 4$

4.2
× 4
16.8

⑧  $1.8 \times 6$

1.8
× 6
10.8

⑨  $3.3 \times 5$

3.3
× 5
16.5

⑩  $9.2 \times 3$

9.2
× 3
27.6