



### 小数のかけ算 3

◎ くり上がりのある  
帯小数 × 1けたの整数の筆算



目指せ90点!



名まえ \_\_\_\_\_

・ 次の計算をしましょう。(各10点)

①  $0.9 \times 1 =$

②  $0.7 \times 7 =$

③  $0.2 \times 6 =$

④  $0.4 \times 8 =$


⑤  $4.3 \times 2$




⑥  $7.9 \times 4$




⑦  $4.2 \times 4$




⑧  $1.8 \times 6$



⑨  $3.3 \times 5$



⑩  $9.2 \times 3$






### 小数のかけ算 3

◎ くり上がりのある  
帯小数 × 1けたの整数の筆算

16

目指せ90点!



名まえ \_\_\_\_\_

・ 次の計算をしましょう。(各10点)

①  $0.9 \times 1 = 0.9$

②  $0.7 \times 7 = 4.9$

③  $0.2 \times 6 = 1.2$

④  $0.4 \times 8 = 3.2$

⑤  $4.3 \times 2$

	4	3
×		2
<hr/>		
	8	6

⑥  $7.9 \times 4$

	7	9
×		4
<hr/>		
3	1	6

⑦  $4.2 \times 4$

	4	2
×		4
<hr/>		
1	6	8

⑧  $1.8 \times 6$

	1	8
×		6
<hr/>		
1	0	8

⑨  $3.3 \times 5$

	3	3
×		5
<hr/>		
1	6	5

⑩  $9.2 \times 3$

	9	2
×		3
<hr/>		
2	7	6

