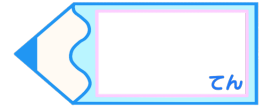


## 小数のかけ算2

◎ 繰り上がりのない  
帯小数×1桁の整数の筆算

16

目指せ80点!



名まえ

・ 次の計算をしましょう。(各10点)

①  $0.6 \times 9 =$

②  $0.6 \times 1 =$

③  $0.7 \times 8 =$

④  $0.4 \times 4 =$

⑤  $9.4 \times 2$

⑥  $5.1 \times 6$


⑦  $7.2 \times 4$

⑧  $8.2 \times 2$

⑨  $4.3 \times 2$

⑩  $9.2 \times 3$



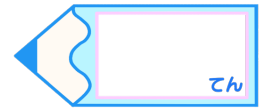


# 小数のかけ算2

● 繰り上がりのない  
帯小数×1桁の整数の筆算



目指せ80点!



てん

名まえ

・ 次の計算をしましょう。(各10点)

①  $0.6 \times 9 = 5.4$

②  $0.6 \times 1 = 0.6$

③  $0.7 \times 8 = 5.6$

④  $0.4 \times 4 = 1.6$

⑤  $9.4 \times 2$

9.4
× 2
18.8

⑥  $5.1 \times 6$

5.1
× 6
30.6

⑦  $7.2 \times 4$

7.2
× 4
28.8

⑧  $8.2 \times 2$

8.2
× 2
16.4

⑨  $4.3 \times 2$

4.3
× 2
8.6

⑩  $9.2 \times 3$

9.2
× 3
27.6

