




## 小数のかけ算 2

◎ くり上がりのない  
帯小数 × 1けたの整数の筆算

16

目指せ90点!



名まえ \_\_\_\_\_

・ 次の計算をしましょう。(各10点)

①  $0.6 \times 9 =$

②  $0.6 \times 1 =$

③  $0.7 \times 8 =$

④  $0.4 \times 4 =$

⑤  $9.4 \times 2$




⑥  $5.1 \times 6$



⑦  $7.2 \times 4$




⑧  $8.2 \times 2$



⑨  $4.3 \times 2$



⑩  $9.2 \times 3$






## 小数のかけ算 2

◎ くり上がりのない  
帯小数 × 1けたの整数の筆算

16

目指せ90点!



名まえ \_\_\_\_\_

・ 次の計算をしましょう。(各10点)

①  $0.6 \times 9 = 5.4$

②  $0.6 \times 1 = 0.6$

③  $0.7 \times 8 = 5.6$

④  $0.4 \times 4 = 1.6$

⑤  $9.4 \times 2$

	9	.	4
×			2
<hr/>			
1	8	.	8

⑥  $5.1 \times 6$

	5	.	1
×			6
<hr/>			
3	0	.	6

⑦  $7.2 \times 4$

	7	.	2
×			4
<hr/>			
2	8	.	8

⑧  $8.2 \times 2$

	8	.	2
×			2
<hr/>			
1	6	.	4

⑨  $4.3 \times 2$

	4	.	3
×			2
<hr/>			
	8	.	6

⑩  $9.2 \times 3$

	9	.	2
×			3
<hr/>			
2	7	.	6

