



直方体や立方体 9

16

◎ 辺と面の関係 (垂直)

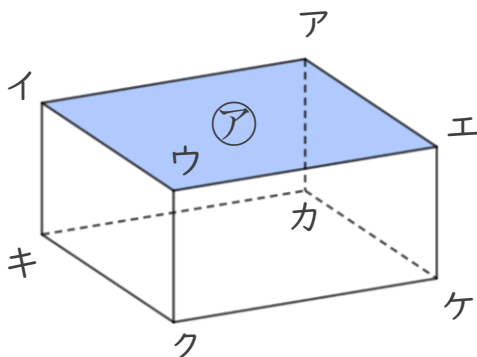
めざせ100点!



てん

名まえ

1 面と辺の関係について調べましょう。



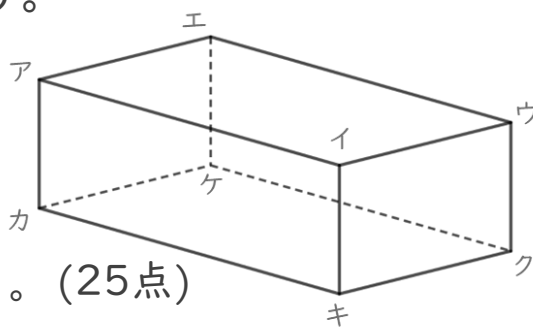
① 面アと垂直な辺を全部書きましょう。(25点)

答え

② 面イキクウと垂直な辺を全部書きましょう。(25点)

答え

2 辺と辺の関係について調べましょう。



① 辺イウと平行な辺を全部書きましょう。(25点)

答え

② 辺エケと垂直な辺を全部書きましょう。(25点)

答え





直方体や立方体 9

16

◎ 辺と面の関係 (垂直)

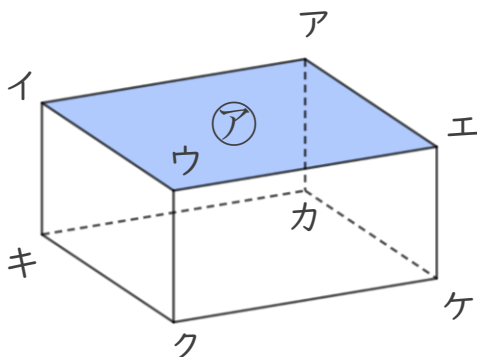
めざせ100点!



てん

名まえ

1 面と辺の関係について調べましょう。



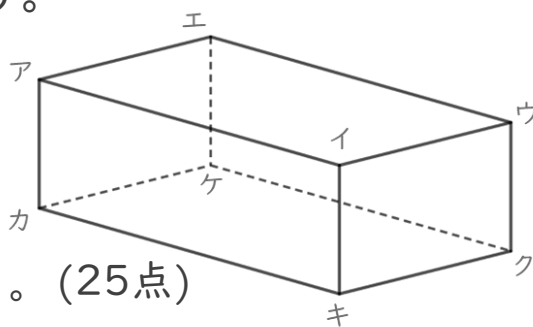
① 面アと垂直な辺を全部書きましょう。(25点)

答え 辺イキ , 辺ウク , 辺エケ , 辺アカ

② 面イキクウと垂直な辺を全部書きましょう。(25点)

答え 辺イア , 辺キカ , 辺クケ , 辺ウエ

2 辺と辺の関係について調べましょう。



① 辺イウと平行な辺を全部書きましょう。(25点)

答え 辺アエ , 辺カケ , 辺キク

② 辺エケと垂直な辺を全部書きましょう。(25点)

答え 辺エア , 辺エウ , 辺ケカ , 辺ケク

