




変わり方調べ ①

● 長方形のたてと横の長さの関係

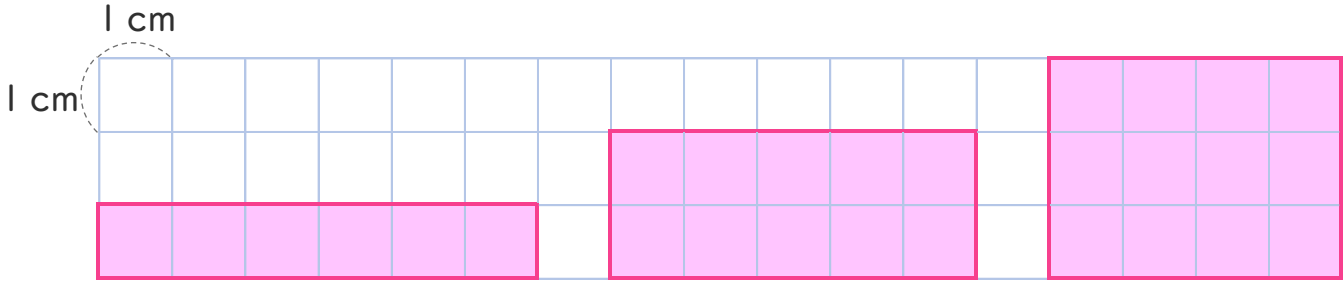


めざせ100点!



名まえ _____

・ まわりの長さが14cmの長方形の たてと横の長さを調べます。



① たてと横の長さを、下の表にまとめましょう。 (30点)

たての長さ (cm)	1	2		4	5	
横の長さ (cm)	6		4			1

② たての長さが1cmずつふえると、横の長さはどのように変わりますか。 (30点)

()

③ たての長さを□cm、横の長さを○cmとして、□と○の関係を式に表しましょう。 (40点)

()




変わり方調べ ①

● 長方形のたてと横の長さの関係

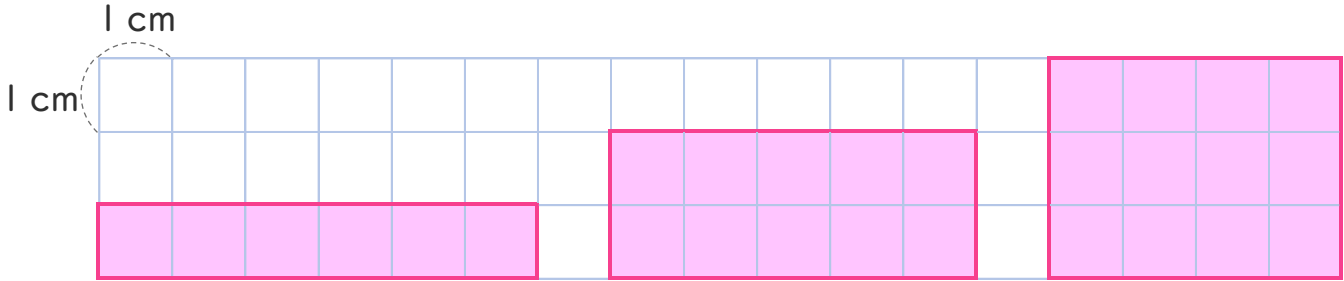


めざせ100点!



名まえ _____

- まわりの長さが14cmの長方形の たてと横の長さを調べます。



- ① たてと横の長さを、下の表にまとめましょう。 (30点)

たての長さ (cm)	1	2	3	4	5	6
横の長さ (cm)	6	5	4	3	2	1

- ② たての長さが1cmずつふえると、横の長さはどのように変わりますか。 (30点)

{ 1cmずつへる。 }

- ③ たての長さを□cm、横の長さを○cmとして、□と○の関係を式に表しましょう。 (40点)

{ □ + ○ = 7 }