



小数の表し方3

◎ 0.01を何こ？

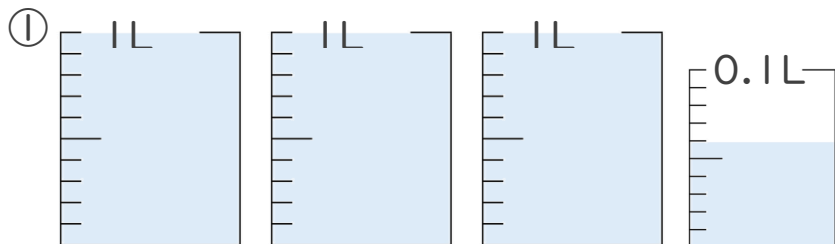
16

目指せ80点!

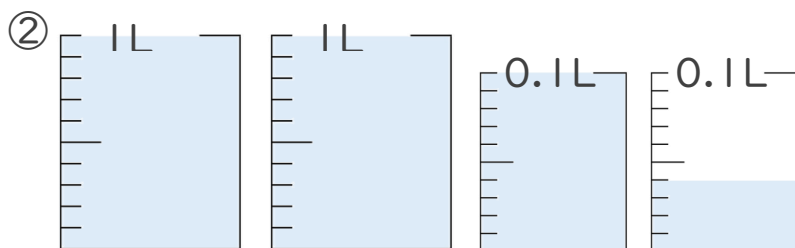


名まえ _____

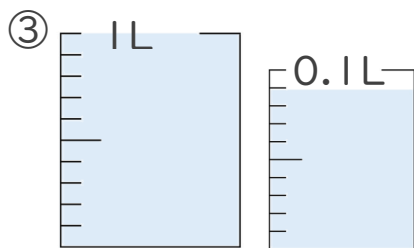
1. 1L入る水さしと、0.1L入る水さしがあります。
水さしに入っている水のかさを、L単位で表しましょう。
(各20点)



答え _____



答え _____



答え _____

2. 次の問いに答えましょう。(各20点)

① 0.23 L は 0.01 L を何こ集めたかさですか？

答え _____

② 0.2 L は 0.01 L を何こ集めたかさですか？

答え _____





小数の表し方3

16

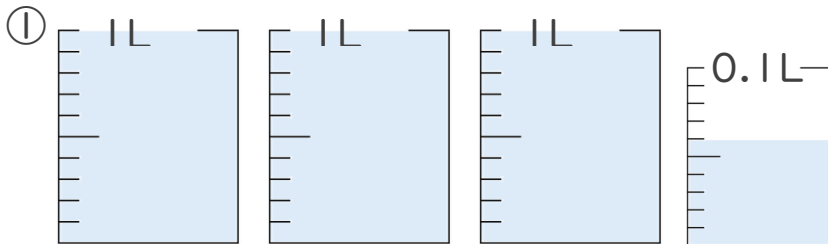
◎ 0.01を何こ？

目指せ80点!

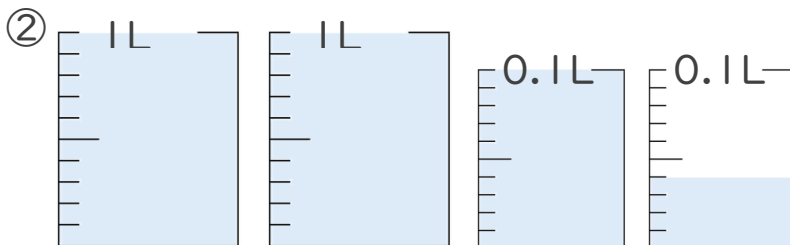


名まえ _____

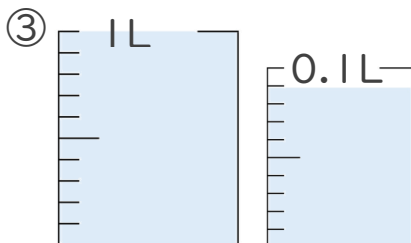
1. 1L入る水さしと、0.1L入る水さしがあります。
水さしに入っている水のかさを、L単位で表しましょう。
(各20点)



答え 3.06L



答え 2.14L



答え 1.09L

2. 次の問いに答えましょう。(各20点)

① 0.23 L は 0.01 L を何こ集めたかさですか？

答え 23こ

② 0.2 L は 0.01 L を何こ集めたかさですか？

答え 20こ

