

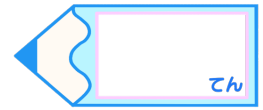


小数のわり算 14

● 2桁の整数で割って
あまりも求める

16

目指せ80点!



名まえ

・次の筆算をしましょう。商は一の位まで求め、あまりもだしましょう。

(各20点)


① $14.2 \div 7$


② $69.9 \div 23$

③ $81.2 \div 39$

④ $35.1 \div 4$

⑤ $96.4 \div 16$



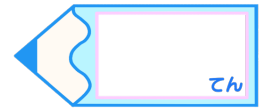


小数のわり算 14

2桁の整数で割って
あまりも求める

16

目指せ80点!



名まえ

・次の筆算をしましょう。商は一の位まで求め、あまりもだしましょう。

(各20点)

① $14.2 \div 7$

$$\begin{array}{r}
 2 \\
 7 \overline{) 14.2} \\
 \underline{14} \\
 0.2
 \end{array}$$

② $69.9 \div 23$

$$\begin{array}{r}
 3 \\
 23 \overline{) 69.9} \\
 \underline{69} \\
 0.9
 \end{array}$$

③ $81.2 \div 39$

$$\begin{array}{r}
 2 \\
 39 \overline{) 81.2} \\
 \underline{78} \\
 3.2
 \end{array}$$

④ $35.1 \div 4$

$$\begin{array}{r}
 8 \\
 4 \overline{) 35.1} \\
 \underline{32} \\
 3.1
 \end{array}$$

⑤ $96.4 \div 16$

$$\begin{array}{r}
 6 \\
 16 \overline{) 96.4} \\
 \underline{96} \\
 0.4
 \end{array}$$

