



わり算の筆算 30

◎ 3けた ÷ 2けた
(商が2けた)

16

目指せ90点!



名まえ _____

・ 次の筆算をしましょう。(①～②各10点・③～⑥各20点)

①


$$44 \overline{)974}$$

②

$$21 \overline{)149}$$


③

$$301 \div 72$$




④

$$764 \div 65$$




⑤

$$687 \div 28$$



⑥

$$261 \div 43$$





わり算の筆算 30

◎ 3けた ÷ 2けた
(商が2けた)



目指せ90点!



名まえ _____

・ 次の筆算をしましょう。(①~②各10点・③~⑥各20点)

①

$$\begin{array}{r}
 22 \\
 44 \overline{) 974} \\
 \underline{88} \\
 94 \\
 \underline{88} \\
 6
 \end{array}$$

②

$$\begin{array}{r}
 7 \\
 21 \overline{) 149} \\
 \underline{147} \\
 2
 \end{array}$$

③

$301 \div 72$

				4	
7	2)	3	0	1
			2	8	8
				1	3

④

$764 \div 65$

			1	1	
6	5)	7	6	4
			6	5	
			1	1	4
				6	5
				4	9

⑤

$687 \div 28$

$$\begin{array}{r}
 24 \\
 28 \overline{) 687} \\
 \underline{56} \\
 127 \\
 \underline{112} \\
 15
 \end{array}$$

⑥

$261 \div 43$

$$\begin{array}{r}
 6 \\
 43 \overline{) 261} \\
 \underline{258} \\
 3
 \end{array}$$