



小数のしくみ7

◎ 6より0.03小さい数



目指せ80点!

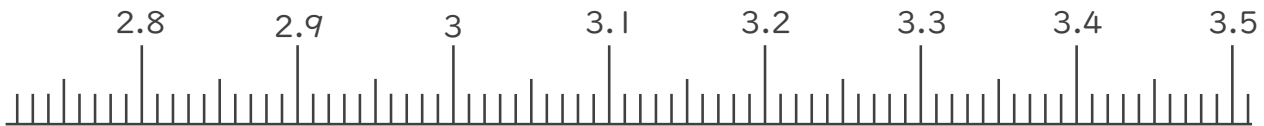


名まえ _____

1. 下の数直線で、ア～エの数を表すめもりに↑をかきましょう。
 また、↑の下にア～エの記号とその数をかきましょう。
 (各20点)

ア 3より0.02小さい数

イ 3.4より0.06大きい数



2. 次の数はいくつですか。(各20点)

① 4と0.83をあわせた数

答え _____

② 1を2こ、0.1を9こ、0.01を4こあわせた数

答え _____

③ 0.01を70こ集めた数

答え _____






小数のしくみ7

◎ 6より0.03小さい数



目指せ80点!

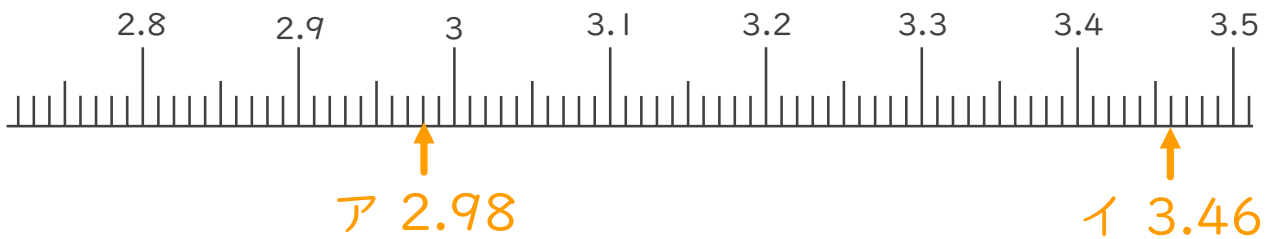


名まえ

1. 下の数直線で、ア～エの数を表すめもりに↑をかきましょう。
 また、↑の下にア～エの記号とその数をかきましょう。
 (各20点)

ア 3より0.02小さい数

イ 3.4より0.06大きい数



2. 次の数はいくつですか。(各20点)

① 4と0.83をあわせた数

答え 4.83

② 1を2こ、0.1を9こ、0.01を4こあわせた数

答え 2.94

③ 0.01を70こ集めた数

答え 0.7

