



小数の表し方6

◎ cmをmで表す

16

点数 点

目指せ80点!

名まえ _____

1. 次の長さを、小数を使ってmで表しましょう。(各10点)

① 5 m 2 4 c m

答え _____

② 2 m 3 c m

答え _____

③ 8 9 m 1 c m

答え _____

④ 3 5 c m

答え _____

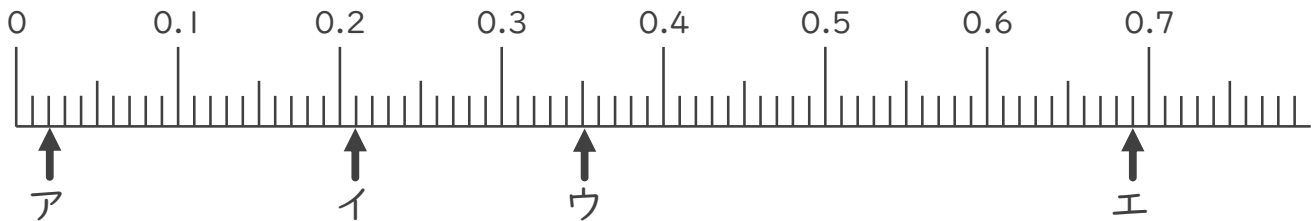
⑤ 6 c m

答え _____

⑥ 3 m 3 7 c m

答え _____

2. 次の数直線でア～オが表す数を答えましょう。(各10点)




ア _____

イ _____

ウ _____

エ _____





小数の表し方6

◎ cmをmで表す

16

点数 点

目指せ80点!

名まえ _____

1. 次の長さを、小数を使ってmで表しましょう。(各10点)

① 5 m 2 4 c m

答え 5.24 m

② 2 m 3 c m

答え 2.03 m

③ 8 9 m 1 c m

答え 89.01 m

④ 3 5 c m

答え 0.35 m

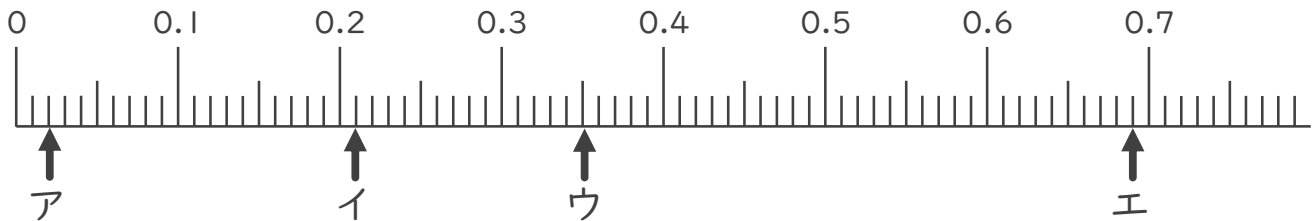
⑤ 6 c m

答え 0.06 m

⑥ 3 m 3 7 c m

答え 3.37 m

2. 次の数直線でア～オが表す数を答えましょう。(各10点)



ア 0.02

イ 0.21

ウ 0.35

エ 0.69

