



# 倍の見方 2

◎ 5m の 7 倍の長さ

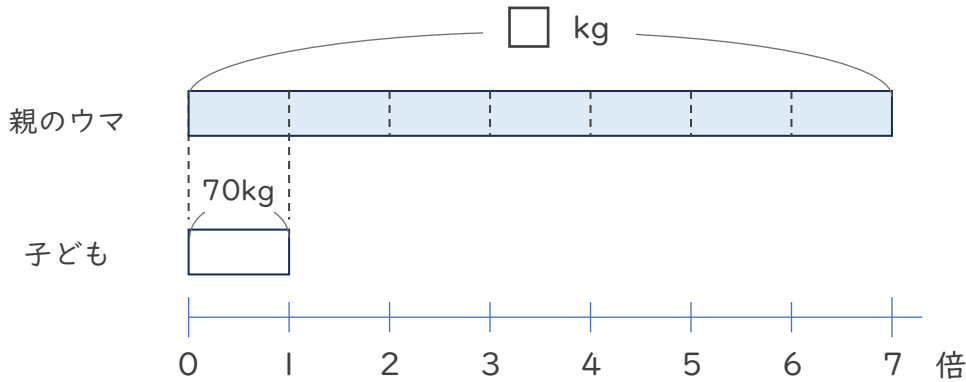


日にち：            月            日

名まえ \_\_\_\_\_

・ 次の問いに答えましょう。（うすい字はなぞりましょう。）

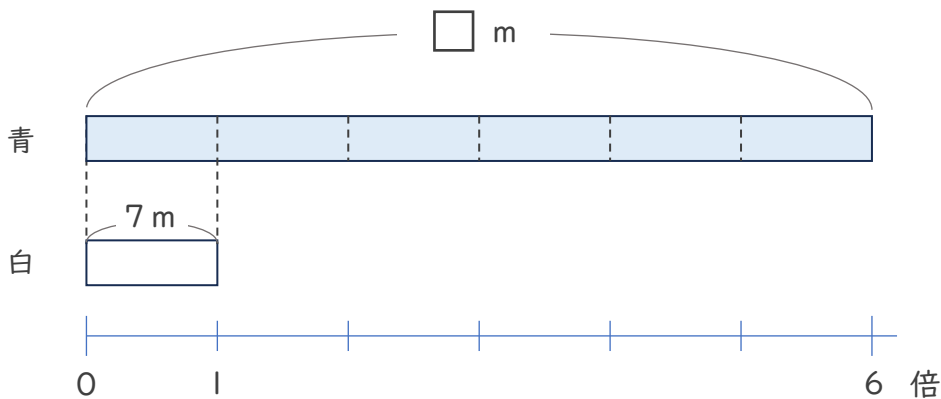
① 子どものウマの体重は70kg、親のウマの体重は、子どものウマの体重の7倍です。親のウマの体重は何kgですか。



式：            ×            =

答え（            k g            ）

② 白のリボンの長さは7mで、青のリボンの長さは白のリボンの長さの6倍です。青のリボンの長さは何mですか。



式：            ×            =

答え（                       ）





# 倍の見方 2

◎ 5m の 7 倍の長さ

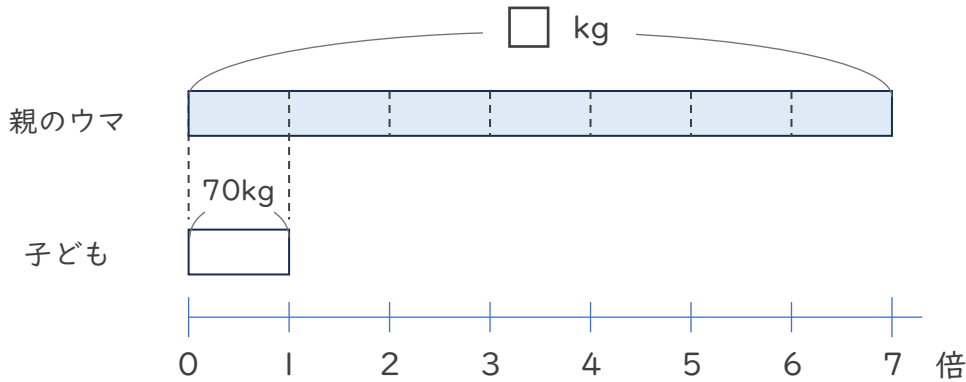


日にち：            月            日

名まえ \_\_\_\_\_

・ 次の問いに答えましょう。（うすい字はなぞりましょう。）

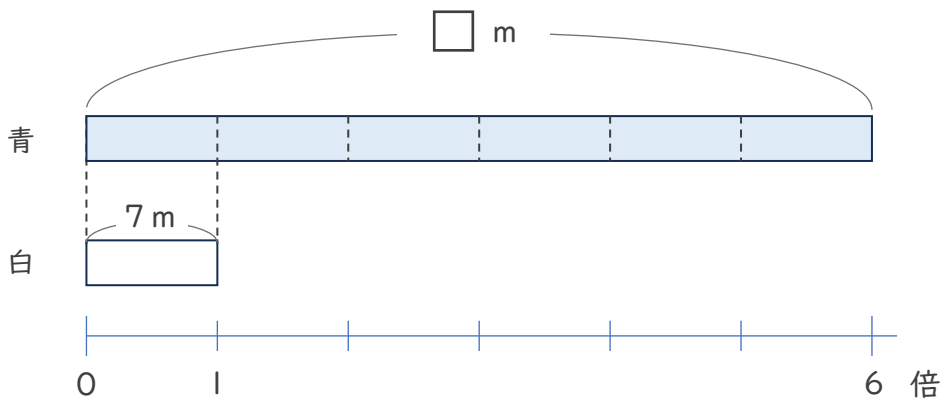
- ① 子どものウマの体重は70kg、親のウマの体重は、子どものウマの体重の7倍です。親のウマの体重は何kgですか。



式：  $70 \times 7 = 490$

答え（  $490 \text{ kg}$  ）

- ② 白のリボンの長さは7mで、青のリボンの長さは白のリボンの長さの6倍です。青のリボンの長さは何mですか。



式：  $7 \times 6 = 42$

答え（  $42 \text{ m}$  ）