



計算のきまり 6

● かっこの前と後ろに
かけ算わり算

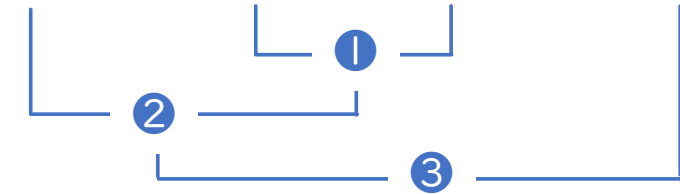


日にち： 月 日

名まえ _____

・ 計算をしましょう。(うすい字はなぞりましょう。)

① $5 \times (7 - 3) \div 4$



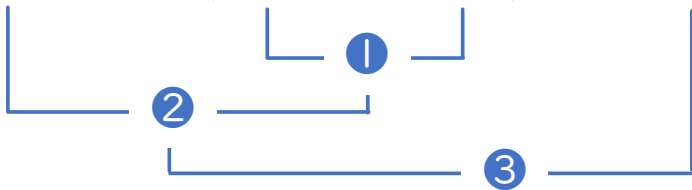
= $5 \times \boxed{4} \div 4$

= $\boxed{} \div 4$

= $\boxed{}$

<筆算スペース>

② $36 \div (6 - 3) \times 6$



= $36 \div \boxed{} \times 6$

= $\boxed{} \times 6$

= $\boxed{}$





計算のきまり 6

● カッコの前と後ろに
かけ算わり算

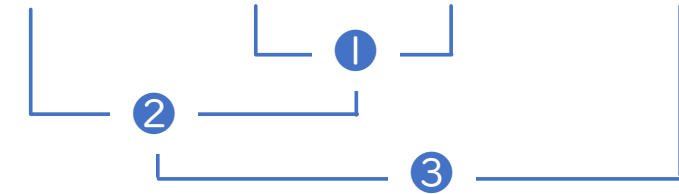


日にち： 月 日

名まえ _____

・ 計算をしましょう。(うすい字はなぞりましょう。)

① $5 \times (7 - 3) \div 4$



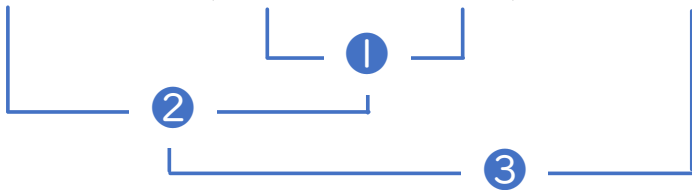
$= 5 \times \boxed{4} \div 4$

$= \boxed{20} \div 4$

$= \boxed{5}$

<筆算スペース>

② $36 \div (6 - 3) \times 6$



$= 36 \div \boxed{3} \times 6$

$= \boxed{12} \times 6$

$= \boxed{72}$

