



がい数の  
使い方と表し方！



● がい数とは

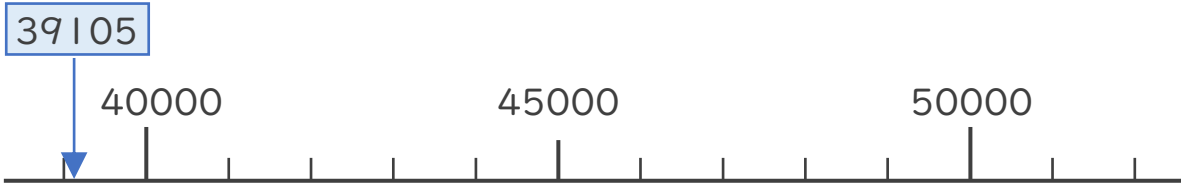
日にち： 月 日

名まえ \_\_\_\_\_

・ 3つの市の人口を<sup>じんこう</sup>表にまとめました。次の問いに答えましょう。  
(うすい字はなぞりましょう。)

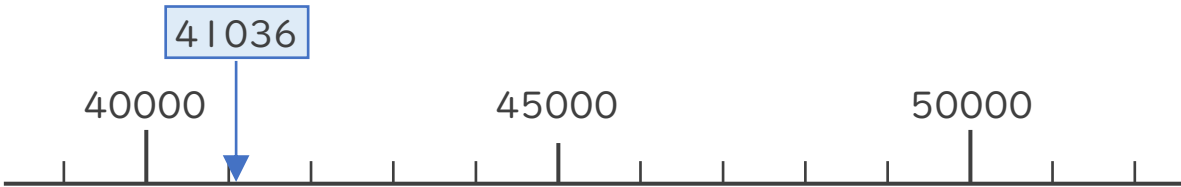
A市	39705人
B市	41036人
C市	48762人

① A市の人口は約何万人といえますか。数直線を見て答えましょう。



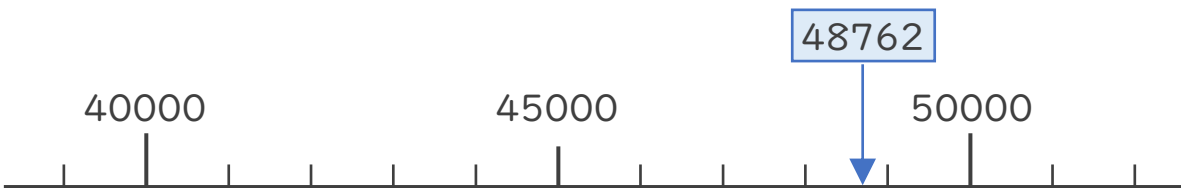
答え ( 約4万 人)

② B市の人口は約何万人といえますか。数直線を見て答えましょう。



答え ( )

③ C市の人口は約何万人といえますか。数直線を見て答えましょう。



答え ( )





# がい数の 使い方と表し方！

● がい数とは



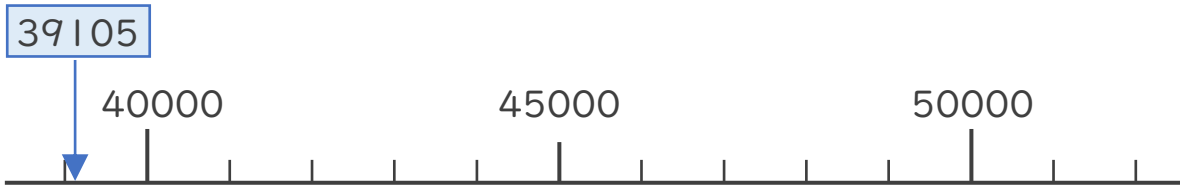
日にち：      月      日

名まえ \_\_\_\_\_

- ・ 3つの市の人口を表にまとめました。次の問いに答えましょう。  
(うすい字はなぞりましょう。)

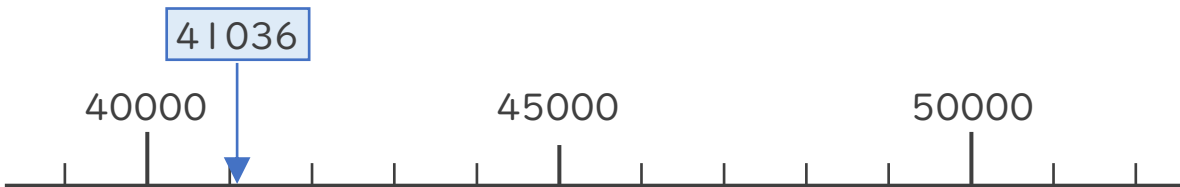
A市	39705人
B市	41036人
C市	48762人

- ① A市の人口は約何万人といえますか。数直線を見て答えましょう。



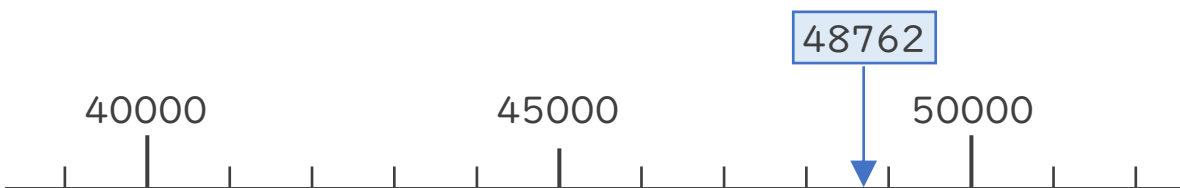
答え ( **約4万** ) 人  
(約40000人)

- ② B市の人口は約何万人といえますか。数直線を見て答えましょう。



答え ( **約4万人** )  
(約40000人)

- ③ C市の人口は約何万人といえますか。数直線を見て答えましょう。



答え ( **約5万人** )  
(約50000人)

