



# 面積の はかり方と表し方 2

◎ マス目の数で広さくらべ



日にち：            月            日

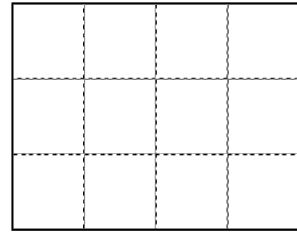
名まえ \_\_\_\_\_

・ 次の図形は1マスが1cm<sup>2</sup>です。次の問いに答えましょう。  
(うすい字はなぞりましょう。)

ア



イ



① 図形はそれぞれ何マスですか。

ア： 10 マス    イ： \_\_\_\_\_

② 図形はそれぞれ何cm<sup>2</sup>ですか。

1マスが1cm<sup>2</sup>なので、面積はマスの数！

ア： 10 cm<sup>2</sup>    イ： \_\_\_\_\_

③ どちらが広いでしょう。

答え： \_\_\_\_\_



## 面積の はかり方と表し方 2

◎ マス目の数で広さくらべ

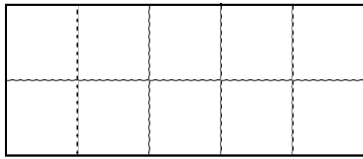


日にち：            月            日

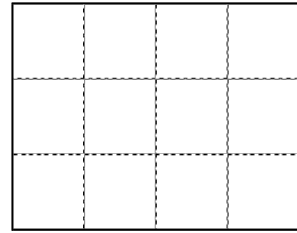
名まえ \_\_\_\_\_

- ・ 次の図形は1マスが1cm<sup>2</sup>です。次の問いに答えましょう。  
(うすい字はなぞりましょう。)

ア



イ



- ① 図形はそれぞれ何マスですか。

ア： 10 マス    イ： 12 マス

- ② 図形はそれぞれ何cm<sup>2</sup>ですか。

1マスが1cm<sup>2</sup>なので、面積はマスの数！

ア： 10 cm<sup>2</sup>    イ： 12 cm<sup>2</sup>

- ③ どちらが広いでしょう。

答え：

