



がい数の 使い方と表し方 12

● 以上・以下・未満と
四捨五入のはんい

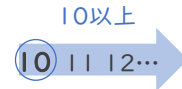


日にち： 月 日

名まえ _____

10^{いじょう}以上

10か、10より大きい数



10^{いか}以下

10か、10より小さい数



10^{みまん}未満

10より小さい数



10は入らない

10も入る

1 次のはんいにあてはまる整数を、下の からえらんですべて書きましょう。

① 7以上10以下 (7, 8, 9, 10)

② 8以上13未満 ()

6, 7, 8, 9, 10, 11, 12, 13

2 一の位で四捨五入して230になる整数のはんいを考えます。 にあてはまる数を書きましょう。

225

以上

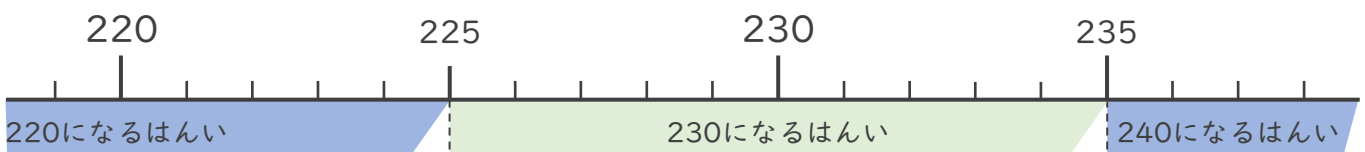
以下

の整数 または、

以上

未満

の整数



225から234までの整数
が入ればいいんだね





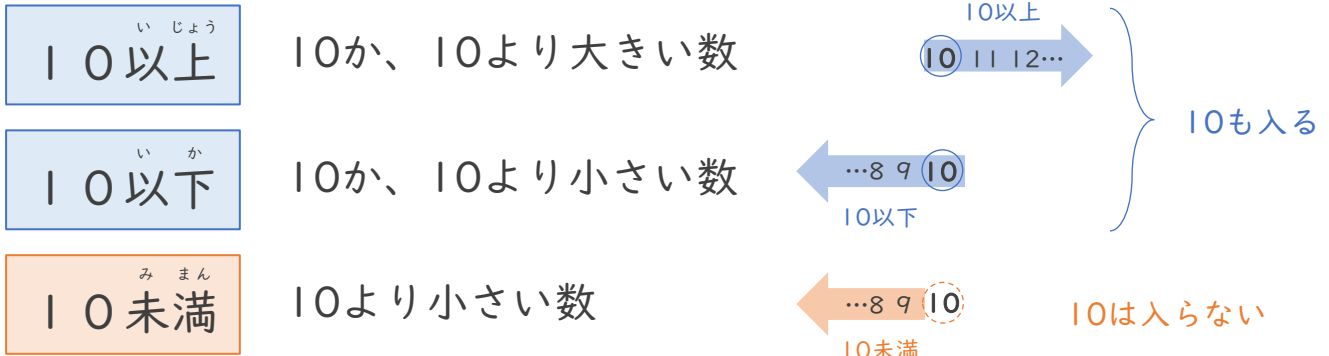
がい数の 使い方と表し方 12

● 以上・以下・未満と
四捨五入のはんい



日にち： 月 日

名まえ _____



1 次のはんいにあてはまる整数を、下の からえらんですべて書きましょう。

① 7以上10以下 (7, 8, 9, 10)

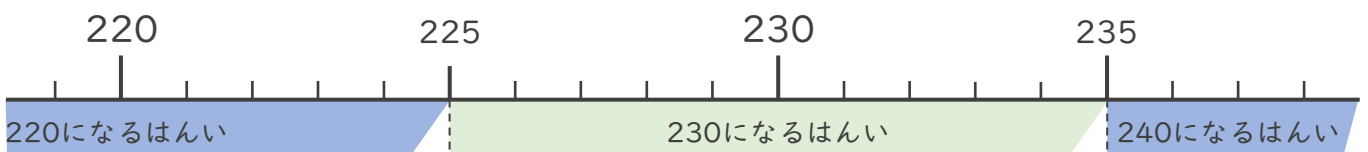
② 8以上13未満 (8, 9, 10, 11, 12)

6, 7, 8, 9, 10, 11, 12, 13

2 一の位で四捨五入して230になる整数のはんいを考えます。 にあてはまる数を書きましょう。

225 以上 234 以下の整数 または、

225 以上 235 未満の整数



225から234までの整数
が入ればいいんだね

