



倍の見方 4



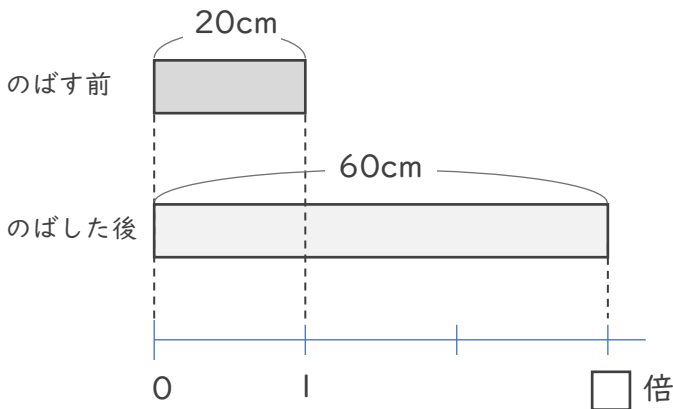
● 倍の利用

日にち： 月 日

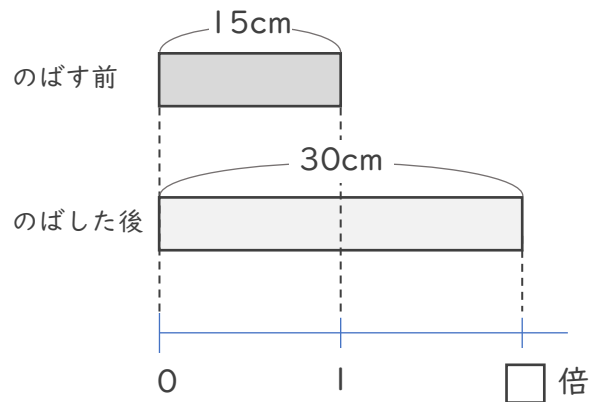
名まえ _____

ゴムAとゴムBをのばしたとき、どちらがよくのびるといえるか調べます。（うすい字はなぞりましょう。）

ゴムA



ゴムB



① ゴムAは20cmから60cmにのびました。ゴムAはのばす前の何倍の長さののびるといえますか。

式： $60 \div 20 =$

答え（ 倍 ）

② ゴムBは15cmから30cmにのびました。ゴムBはのばす前の何倍の長さののびるといえますか。

式：

答え（ ）

③ ゴムAとゴムBでは、どちらの方がよくのびるといえますか。

答え（ ）



倍の見方4



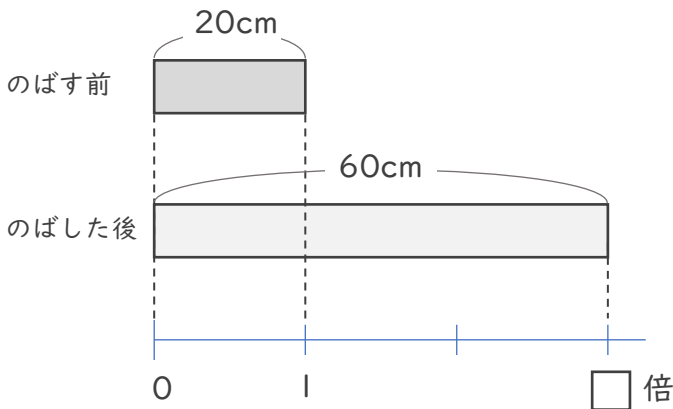
● 倍の利用

日にち： 月 日

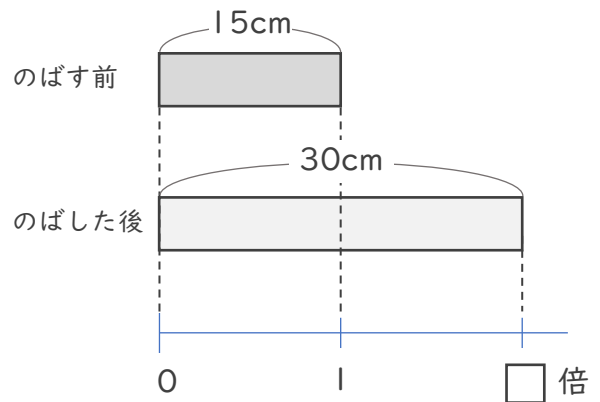
名まえ _____

ゴムAとゴムBをのばしたとき、どちらがよくのびるといえるか調べます。（うすい字はなぞりましょう。）

ゴムA



ゴムB



① ゴムAは20cmから60cmにのびました。ゴムAはのばす前の何倍の長さののびるといえますか。

式： $60 \div 20 = 3$

答え（ 3倍 ）

② ゴムBは15cmから30cmにのびました。ゴムBはのばす前の何倍の長さののびるといえますか。

式： $30 \div 15 = 2$

答え（ 2倍 ）

③ ゴムAとゴムBでは、どちらの方がよくのびるといえますか。

答え（ ゴムA ）

