

分数 8

分母で大きさをくらべ

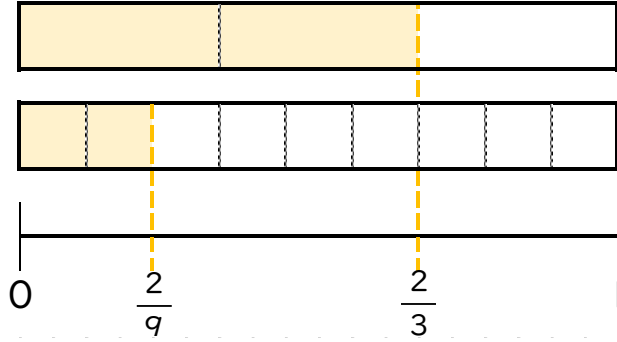


日にち： 月 日

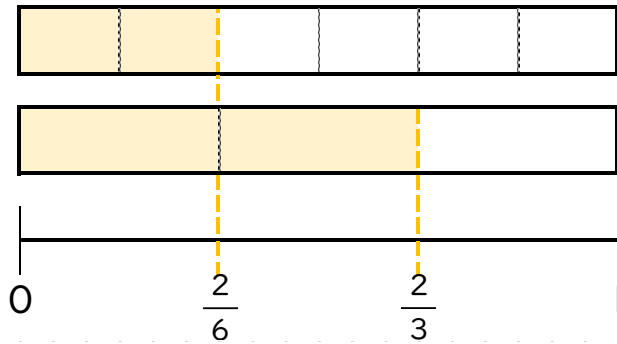
名まえ _____

・ 図を見て、 にあてはまる不等号を書きましょう。

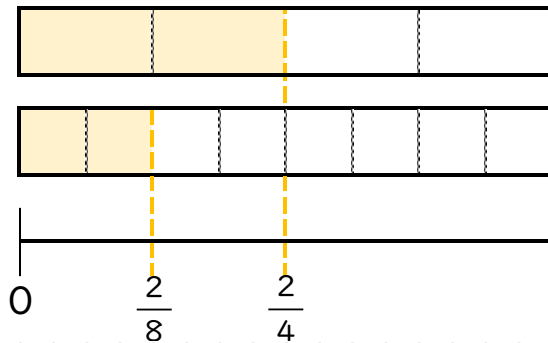
① $\frac{2}{3}$ $\frac{2}{9}$




② $\frac{2}{6}$ $\frac{2}{3}$



③ $\frac{2}{4}$ $\frac{2}{8}$





分数 8

分母で大きさをくらべ

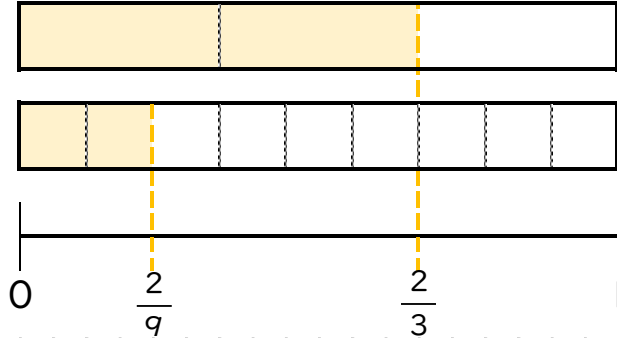


日にち： 月 日

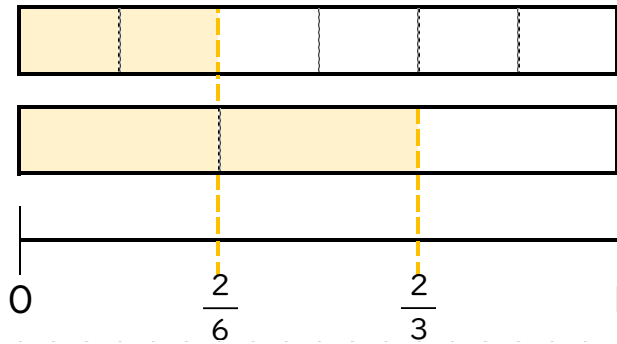
名まえ _____

・ 図を見て、 にあてはまる不等号を書きましょう。

① $\frac{2}{3}$ $\frac{2}{9}$



② $\frac{2}{6}$ $\frac{2}{3}$



③ $\frac{2}{4}$ $\frac{2}{8}$

