



# 分数 8

分母で大きさくらべ

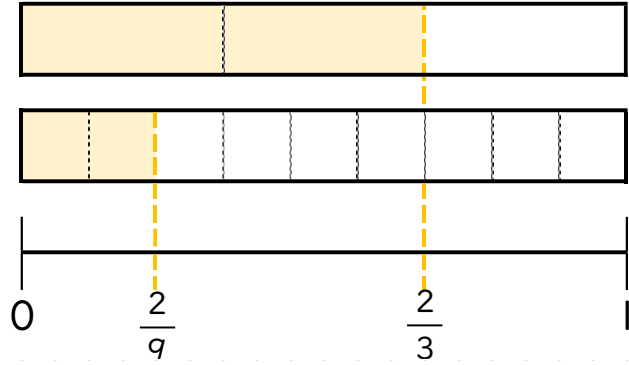


日にち： 月 日

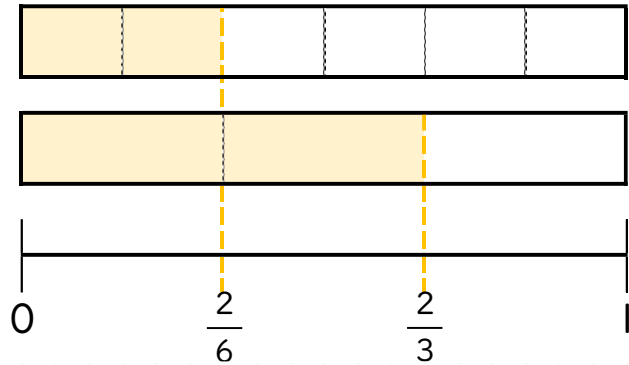
名まえ \_\_\_\_\_

・ 図を見て、 にあてはまる不等号を書きましょう。  
(うすい字はなぞりましょう。)

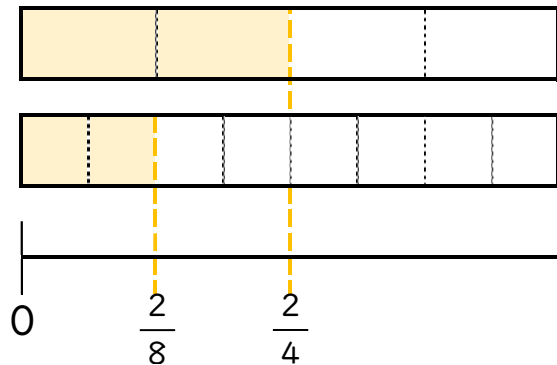
①  $\frac{2}{3}$    $\frac{2}{9}$



②  $\frac{2}{6}$    $\frac{2}{3}$



③  $\frac{2}{4}$    $\frac{2}{8}$





# 分数 8

分母で大きさをくらべ

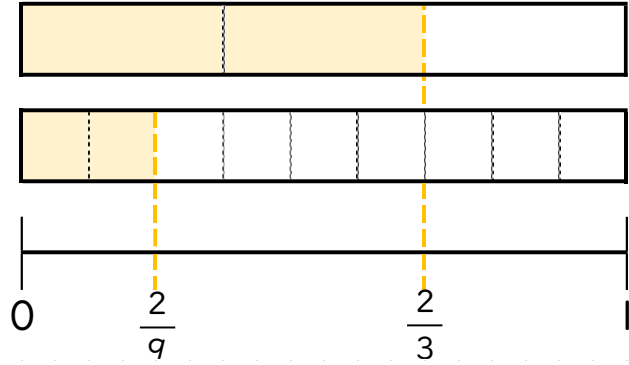


日にち：      月      日

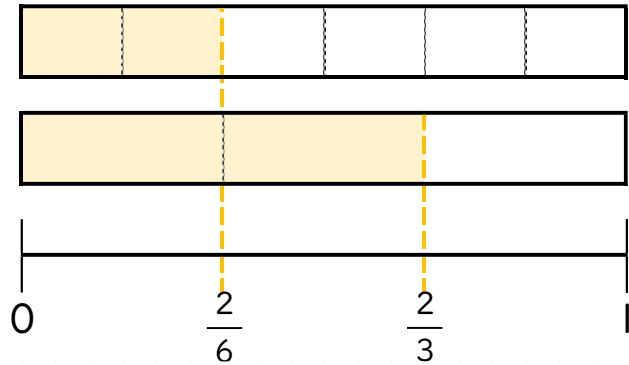
名まえ \_\_\_\_\_

・ 図を見て、 にあてはまる不等号を書きましょう。  
(うすい字はなぞりましょう。)

①  $\frac{2}{3} > \frac{2}{9}$



②  $\frac{2}{6} < \frac{2}{3}$



③  $\frac{2}{4} > \frac{2}{8}$

