



垂直、平行と
四角形 12

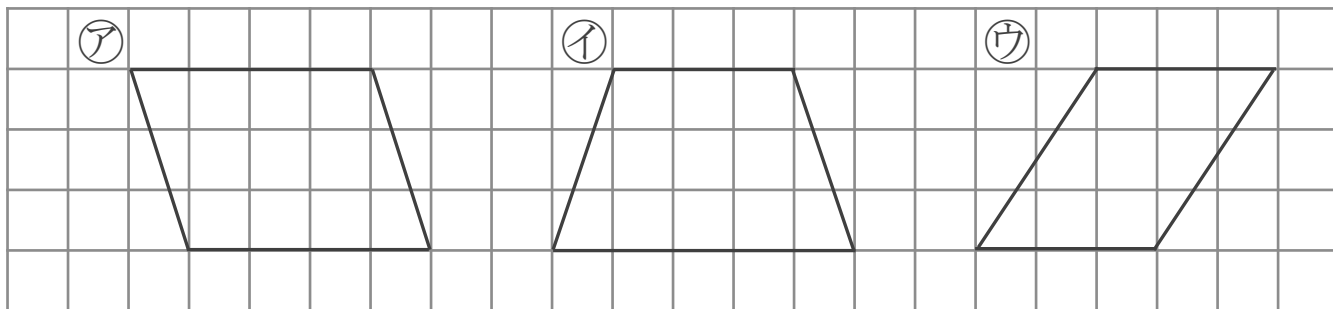
● 台形と平行四辺形



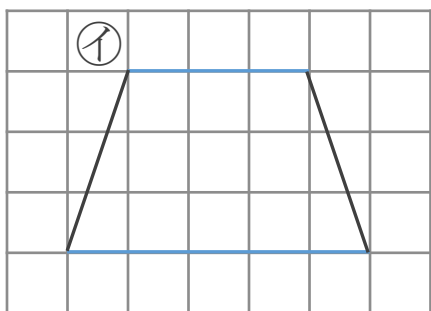
日にち： 月 日

名まえ _____

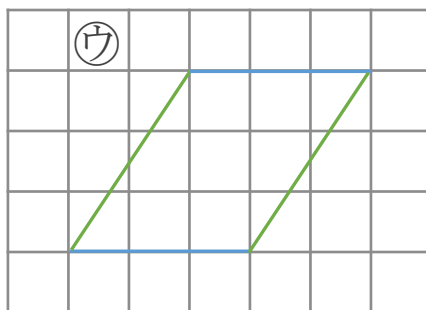
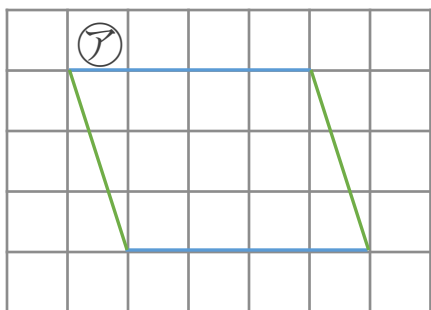
- 次の四角形を、台形と平行四辺形に分けましょう。
(うすい字はなぞりましょう。)



▼ 台形は、平行な辺が 組



▼ 平行四辺形は、平行な辺が 組



答え： 台形…

平行四辺形…





垂直、平行と
四角形 12

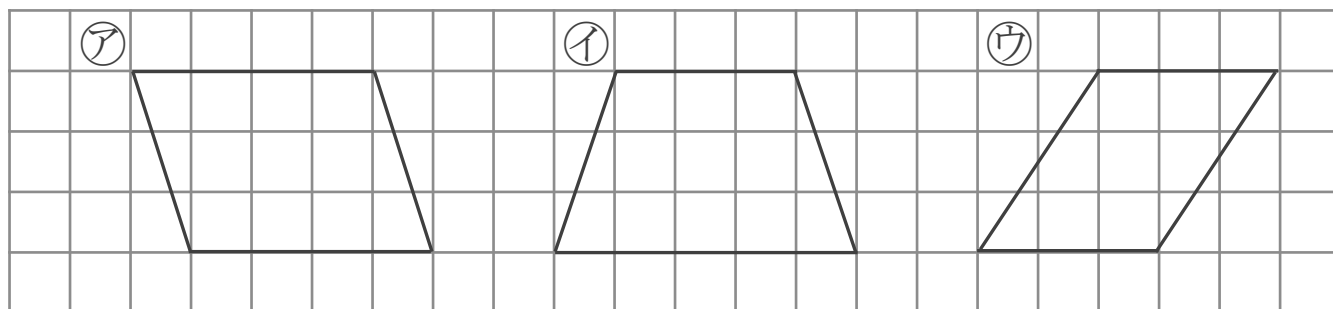
2

● 台形と平行四辺形

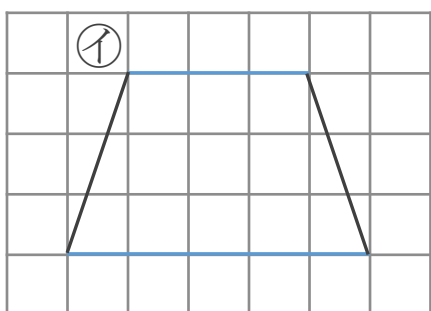
日にち： 月 日

名まえ _____

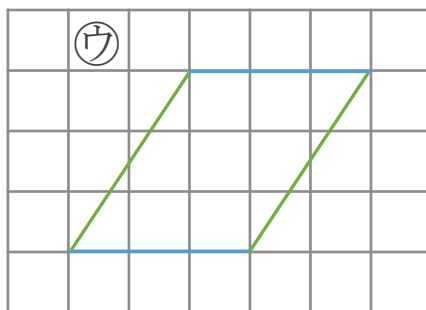
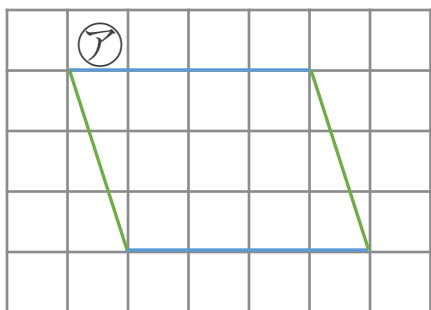
- 次の四角形を、台形と平行四辺形に分けましょう。
(うすい字はなぞりましょう。)



▼ 台形は、平行な辺が 1 組



▼ 平行四辺形は、平行な辺が 2 組



答え： 台形… ①

平行四辺形… ②, ③

