



がい数の 使い方と表し方 4★2

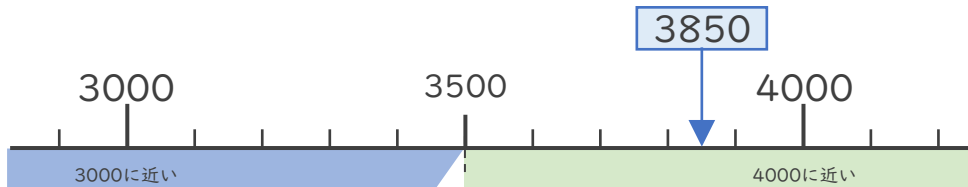
● 四捨五入とは

日にち： 月 日

名まえ _____

・ 次の問いに答えましょう。

① 3850は3000と4000のどちらに近いですか。



答え ()

・ ①のように、ある数をがい数で表したいときは **四捨五入** をして表すことができます。

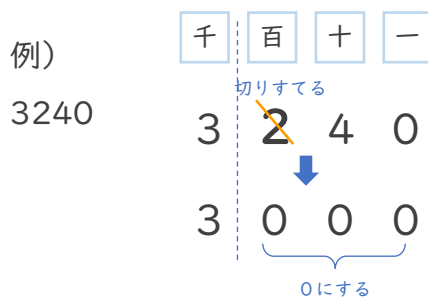
<四捨五入のやりかた>

・ 千の位までのがい数で表すときは、1つ前の百の位を四捨五入します。

百の位の数で、

0, 1, 2, 3, 4

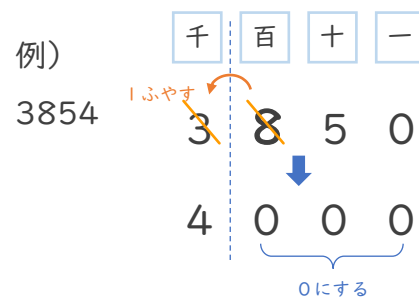
→ 切りすてる



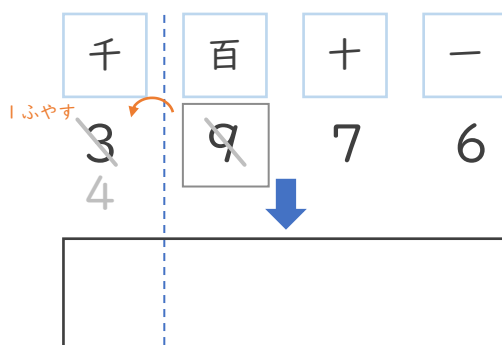
百の位の数で、

5, 6, 7, 8, 9

→ 切り上げる



② 3976を百の位で四捨五入して、千の位までのがい数で表しましょう。



百の位の数で1だから
切りすてるんだね！





がい数の 使い方と表し方 4 2

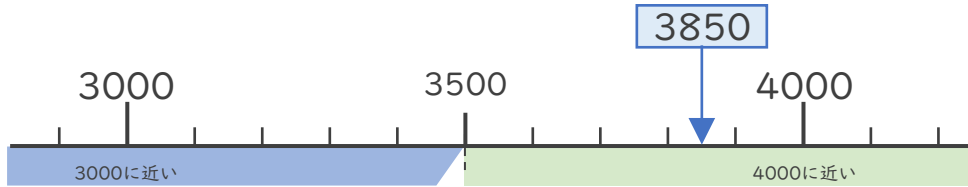
● 四捨五入とは

日にち： 月 日

名まえ _____

・ 次の問いに答えましょう。

① 3850は3000と4000のどちらに近いですか。



答え (4000)

・ ①のように、ある数をがい数で表したいときは **四捨五入** をして表すことができます。

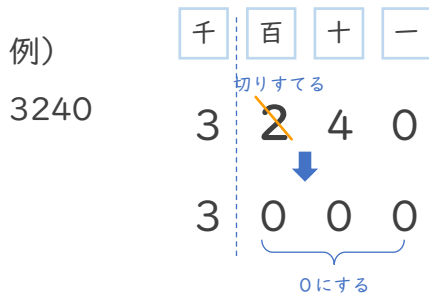
＜四捨五入のやりかた＞

・ 千の位までのがい数で表すときは、1つ前の **百の位** を四捨五入します。

百の位の数か、

0, 1, 2, 3, 4

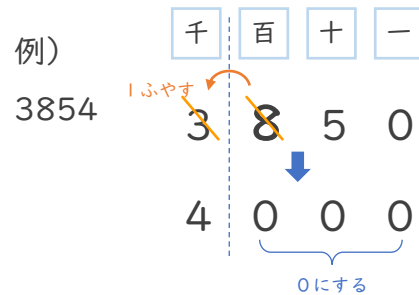
→ 切りすてる



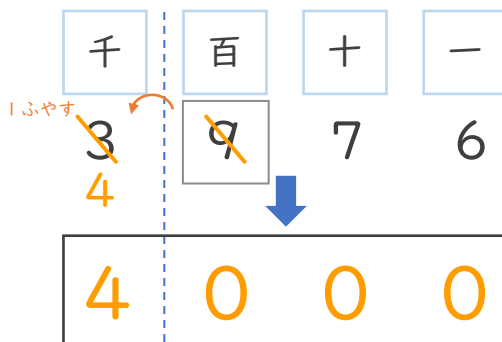
百の位の数か、

5, 6, 7, 8, 9

→ 切り上げる



② 3976を百の位で四捨五入して、千の位までのがい数で表しましょう。



百の位の数か9だから
切り上げるんだね!



② 確認 答え

