



がい数の 使い方と表し方 4 2

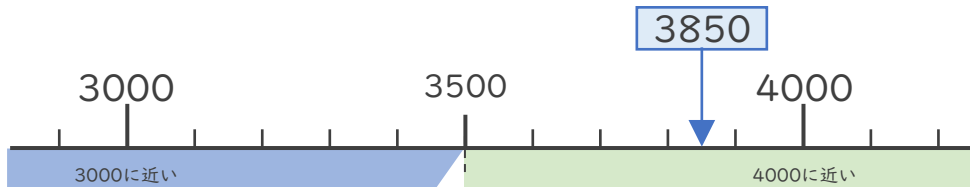
● 四捨五入とは

日にち： 月 日

名まえ _____

・ 次の問いに答えましょう。（うすい字はなぞりましょう。）

① 3850は3000と4000のどちらに近いですか。



答え（ 4000 ）

・ ①のように、ある数をがい数で表したいときは **四捨五入** をして表すことができます。

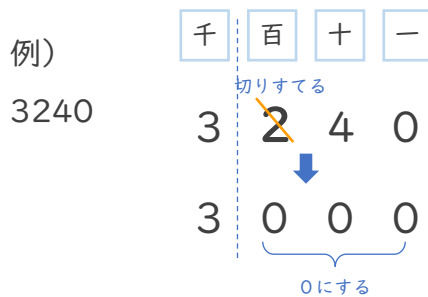
＜四捨五入のやりかた＞

・ 千の位までのがい数で表すときは、1つ前の **百の位** を四捨五入します。

百の位の数が、

0, 1, 2, 3, 4

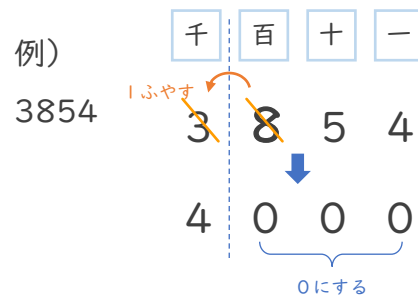
→ **切りすてる**



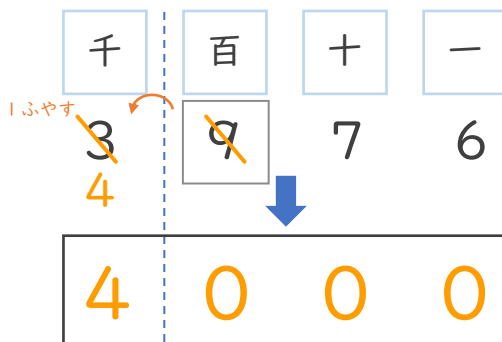
百の位の数が、

5, 6, 7, 8, 9

→ **切り上げる**



② 3976を百の位で四捨五入して、千の位までのがい数で表しましょう。



百の位の数
が9だから
切り上げるんだね！



② 確認 答え



すらすらぷりんと