



垂直, 平行と 四角形5

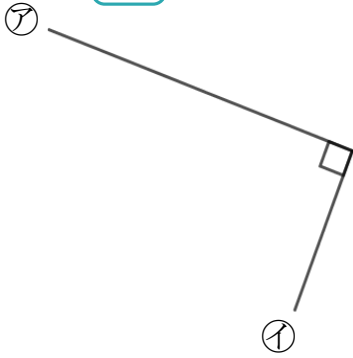
● 垂直な線を探す
(ヒントの点あり)



日にち： 月 日

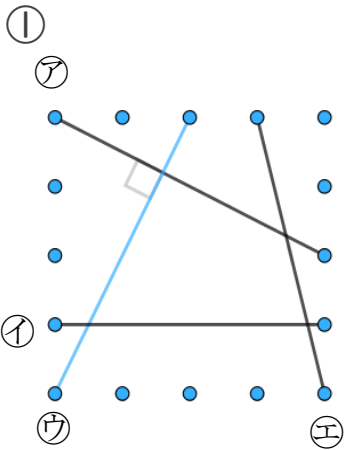
名まえ _____

1 次の に当てはまる言葉を答えましょう(うすい字はなぞろう)

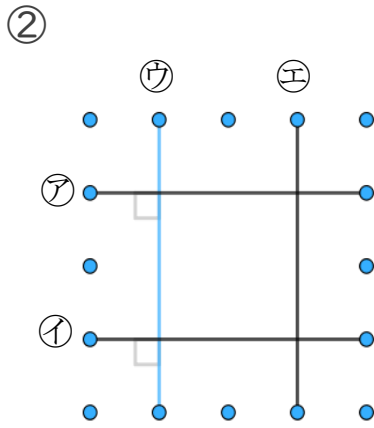


アとイの直線の並び方は です。

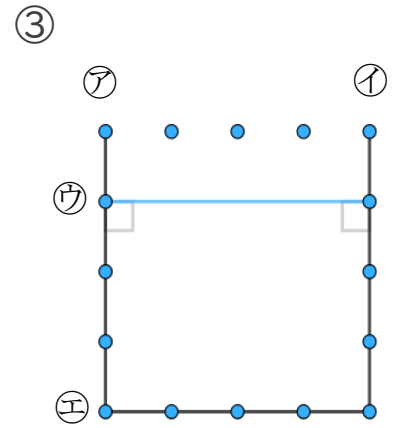
2 次の図で、アの直線に垂直な直線はどれですか(うすい字はなぞろう)



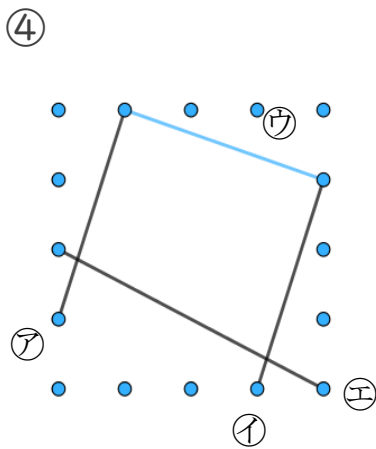
答え：



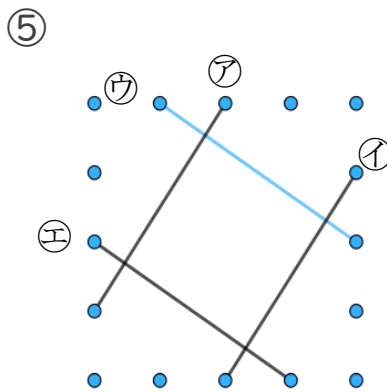
答え：



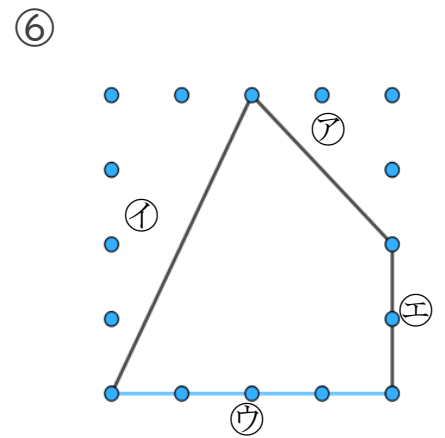
答え： _____



答え： _____



答え： _____



答え： _____





垂直、平行と 四角形5

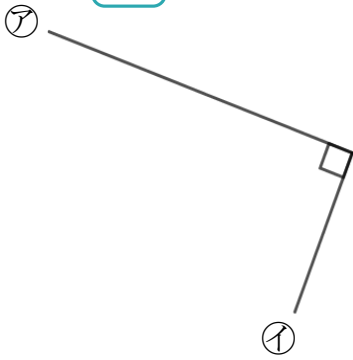
● 垂直な線を探す
(ヒントの点あり)

2

日にち： 月 日

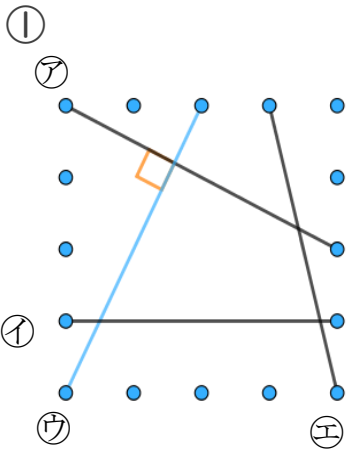
名まえ _____

1 次の に当てはまる言葉を答えましょう(うすい字はなぞろう)

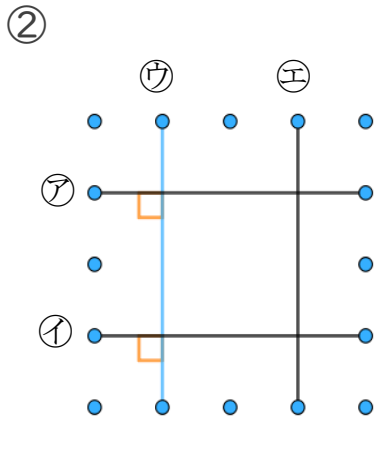


アとイの直線の並び方は **垂直** です。

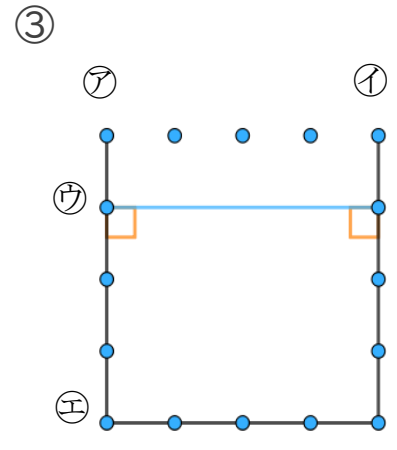
2 次の図で、アの直線に垂直な直線はどれですか(うすい字はなぞろう)



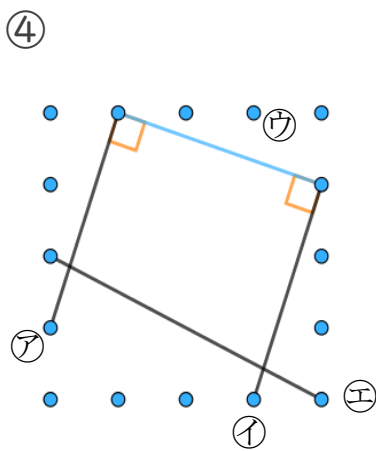
答え： **イ**



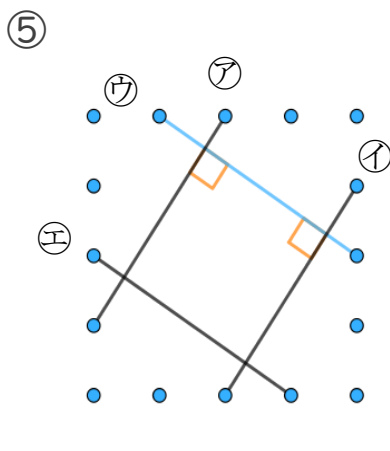
答え： **ア, イ**



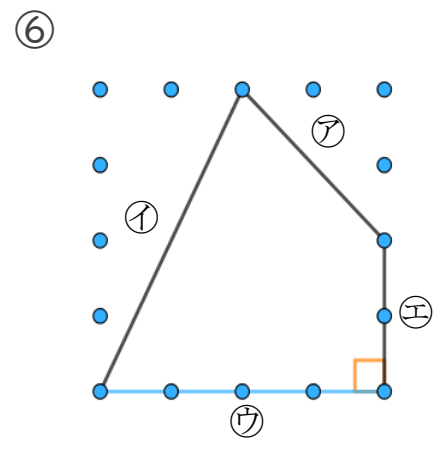
答え： **ア, イ**



答え： **ア, イ**



答え： **ア, イ**



答え： **エ**

