



面積の
はかり方と表し方 9

◎ 平方キロメートルの面積

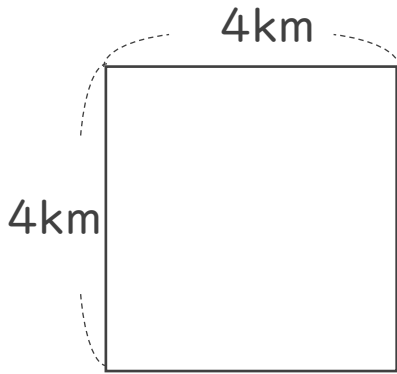


日にち： 月 日

名まえ _____

・ 次の問いに答えましょう。(うすい字はなぞりましょう。)

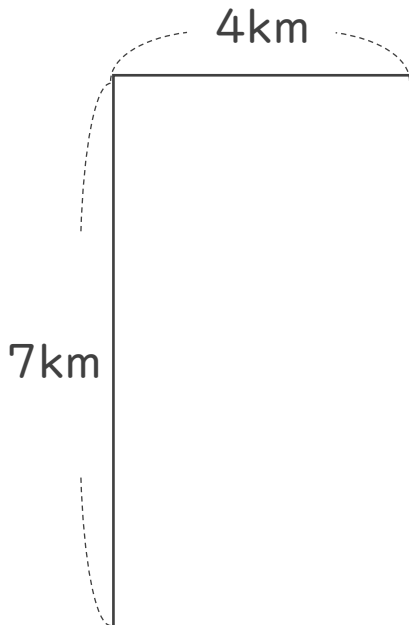
1 たて4km、横4kmの浮島の面積は、何 km^2 でしょう。



式： $4 \times 4 =$

答え： _____

2 次の図形の面積を求めましょう。



式：

答え： _____



面積の
はかり方と表し方 9

◎ 平方キロメートルの面積

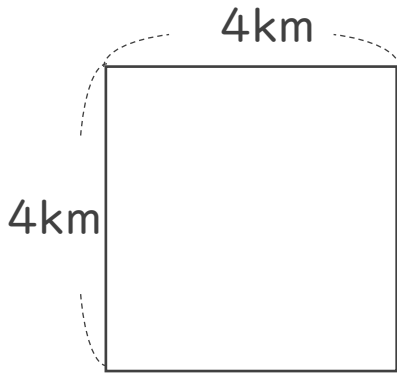


日にち： 月 日

名まえ _____

・ 次の問いに答えましょう。(うすい字はなぞりましょう。)

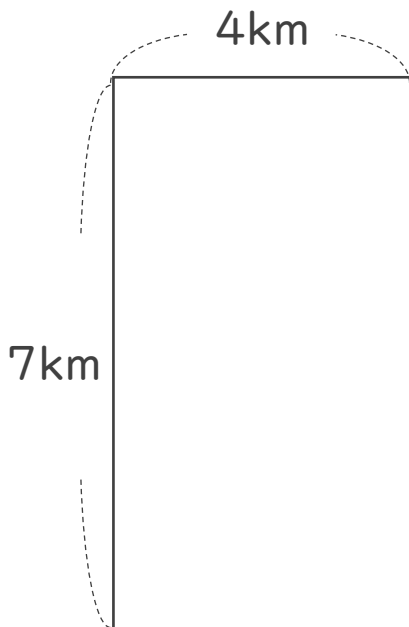
1 たて4km、横4kmの浮島の面積は、何 km^2 でしょう。



式： $4 \times 4 = 16$

答え： 16 km^2

2 次の図形の面積を求めましょう。



式： $7 \times 4 = 28$

答え： 28 km^2