



面積の はかり方と表し方 Ⅰ

● 広さくらべ

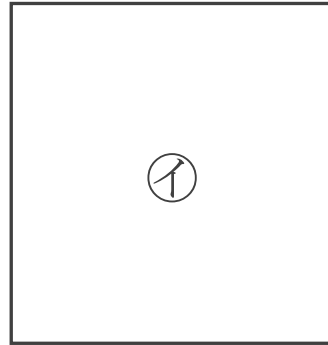
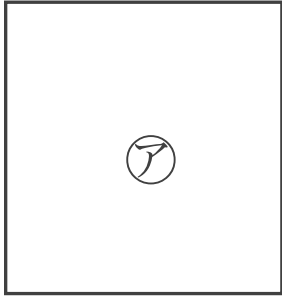
2

日にち： 月 日

名まえ _____

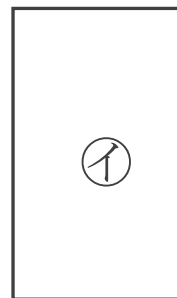
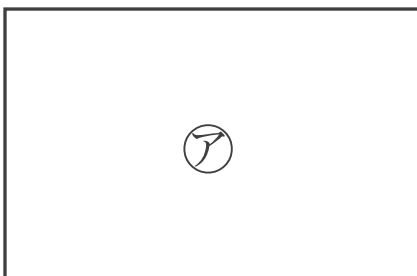
・ どちらが広いかわらべましょう。

①



答え： _____

②



答え： _____





面積の はかり方と表し方 Ⅰ

● 広さくらべ

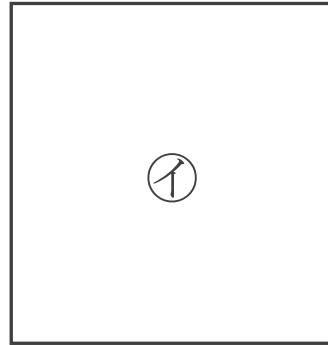
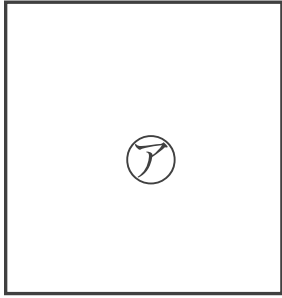
2

日にち： 月 日

名まえ _____

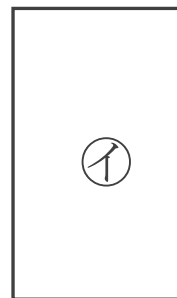
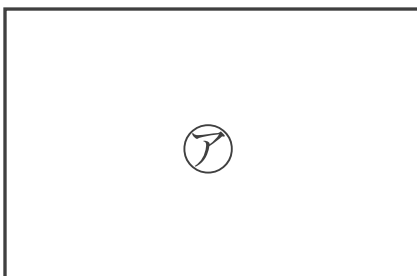
・ どちらが広いかわらべましょう。

①



答え： イ

②



答え： ア

