



# 面積の はかり方と表し方 ②

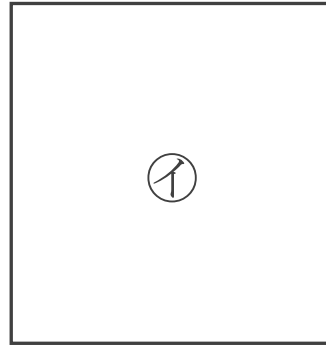
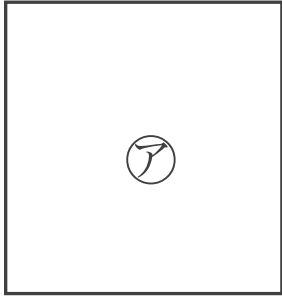
● 広さくらべ

日にち：            月            日

名まえ \_\_\_\_\_

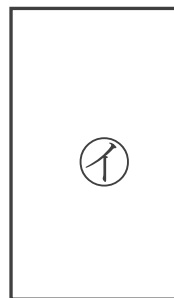
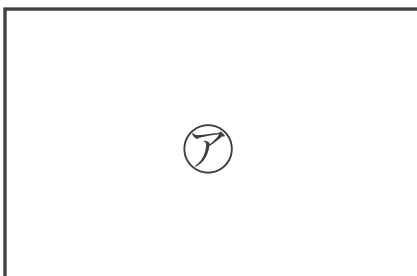
・どちらが広いかくらべましょう。

①



答え： \_\_\_\_\_

②



答え： \_\_\_\_\_





面積の  
はかり方と表し方 ①

● 広さくらべ

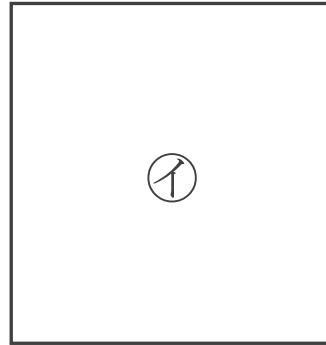
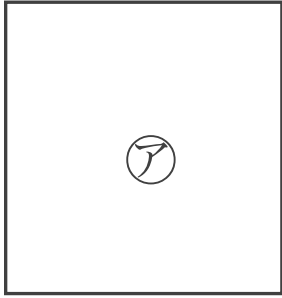


日にち：            月            日

名まえ \_\_\_\_\_

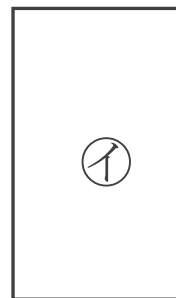
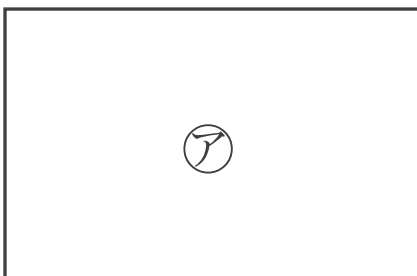
・どちらが広いかわらべましょう。

①



答え：            イ

②



答え：            ア

