



がい数の 使い方と表し方 ②

● 数直線と四捨五入のはんい

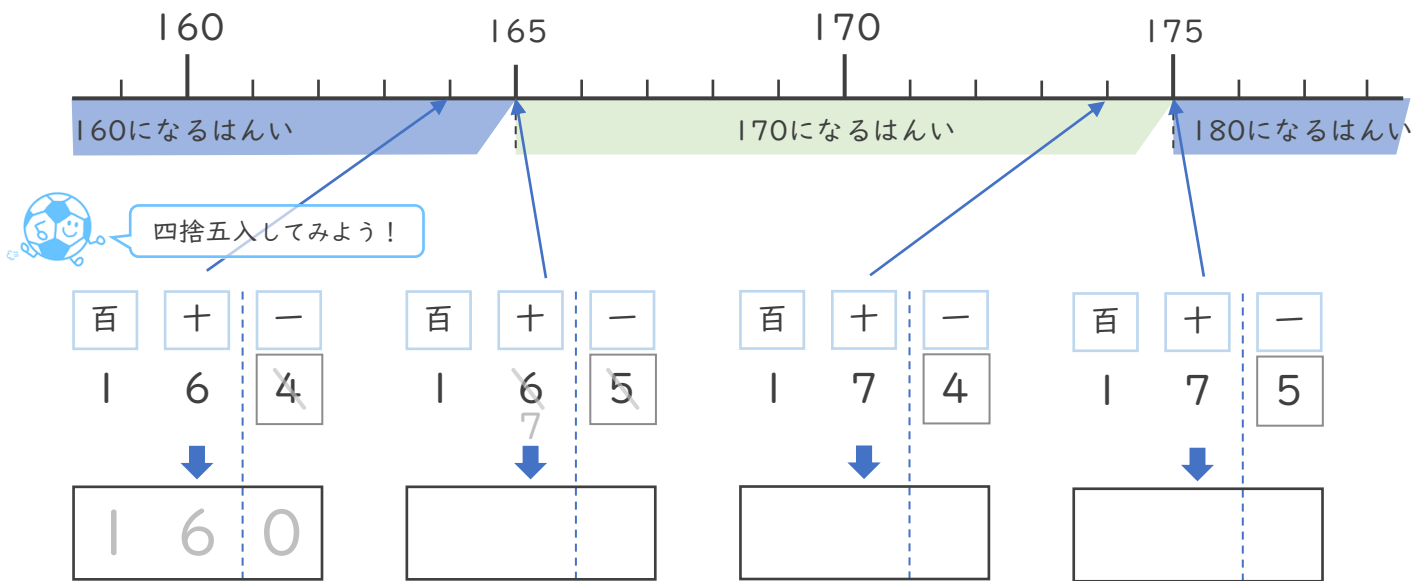


日にち： 月 日

名まえ _____

・ 次の問いに答えましょう。（うすい字はなぞりましょう。）

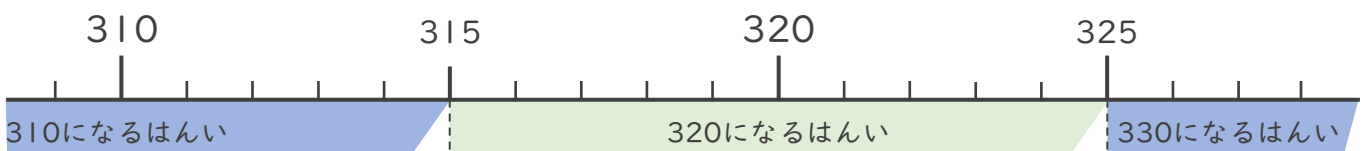
- ① 一の位で四捨五入して170になる整数のうち、いちばん小さい数といちばん大きい数はいくつですか。



いちばん小さい数 ()

いちばん大きい数 ()

- ② 一の位で四捨五入して320になる整数のうち、いちばん小さい数といちばん大きい数はいくつですか。



いちばん小さい数 ()

いちばん大きい数 ()





がい数の 使い方と表し方 ②

● 数直線と四捨五入のはんい

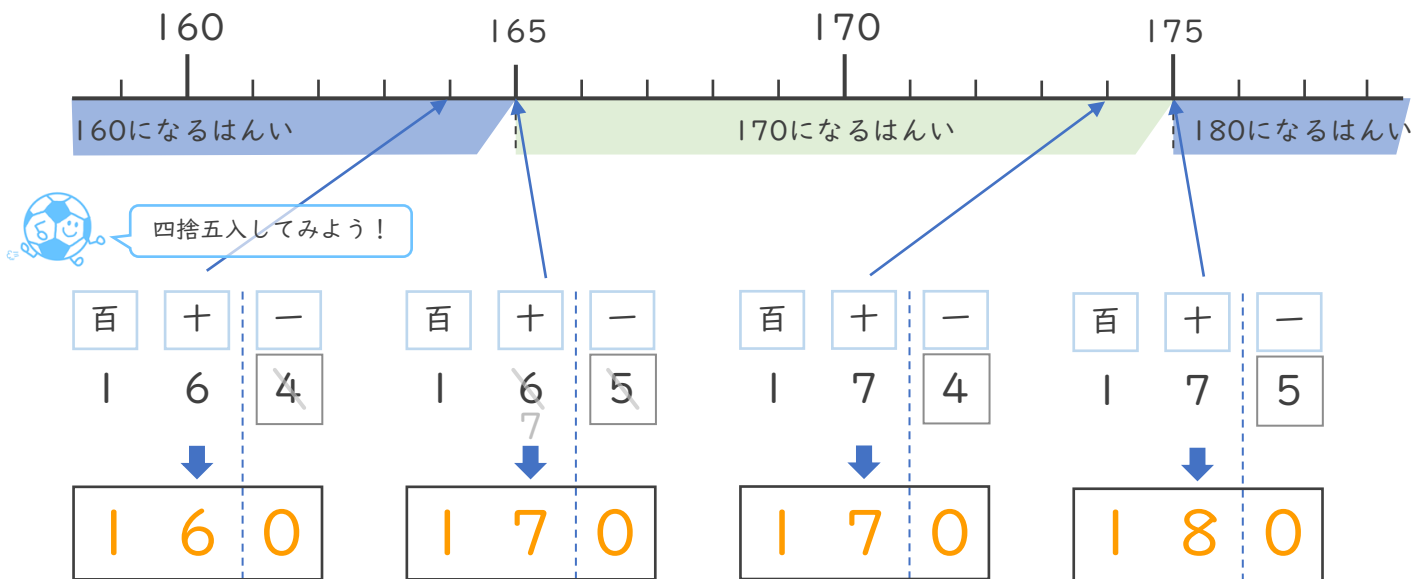


日にち： 月 日

名まえ _____

・ 次の問いに答えましょう。（うすい字はなぞりましょう。）

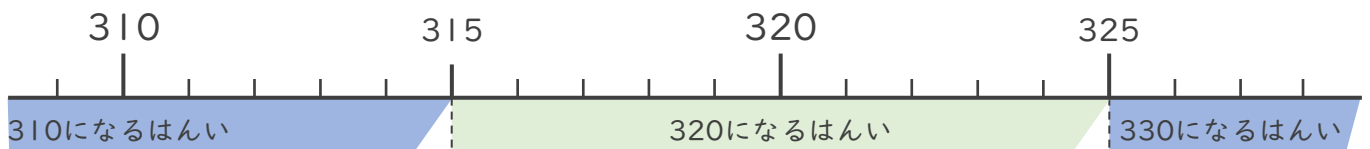
- ① 一の位で四捨五入して170になる整数のうち、いちばん小さい数といちばん大きい数はいくつですか。



いちばん小さい数 (165)

いちばん大きい数 (174)

- ② 一の位で四捨五入して320になる整数のうち、いちばん小さい数といちばん大きい数はいくつですか。



いちばん小さい数 (315)

いちばん大きい数 (324)

