



小数の表し方8

㉞ 数直線の読みとり
(小数第三位)

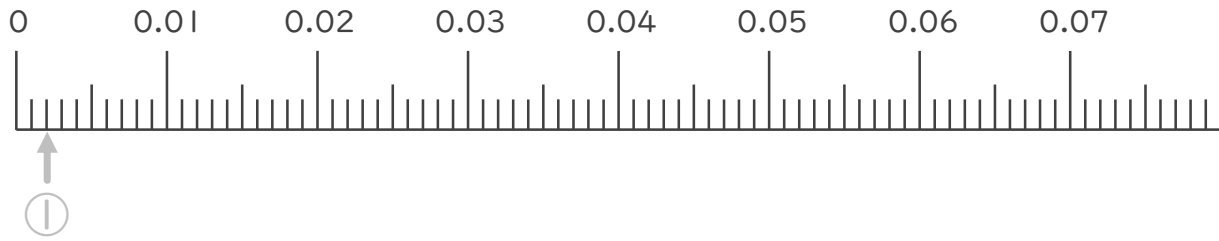


日にち： 月 日

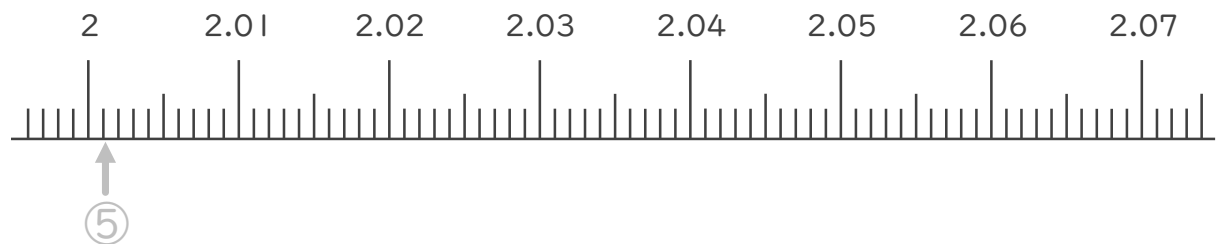
名まえ

1. 次の小数を表すめもりに ↑ を書きましょう。(うすい字はなぞりましょう。)

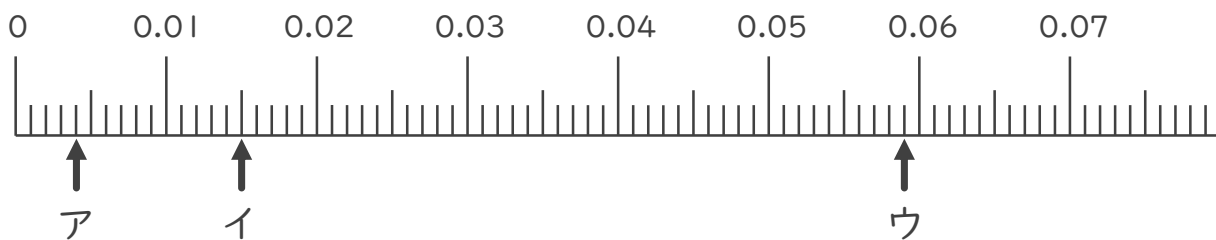
- ① 0.002 ② 0.015 ③ 0.049 ④ 0.062



- ⑤ 2.001 ⑥ 2.017 ⑦ 2.045 ⑧ 2.068



2. 次の数直線でア～ウが表す数を答えましょう。(うすい字はなぞりましょう。)



ア 0.004

イ _____

ウ _____



小数の表し方8

㉞ 数直線の読みとり
(小数第三位)

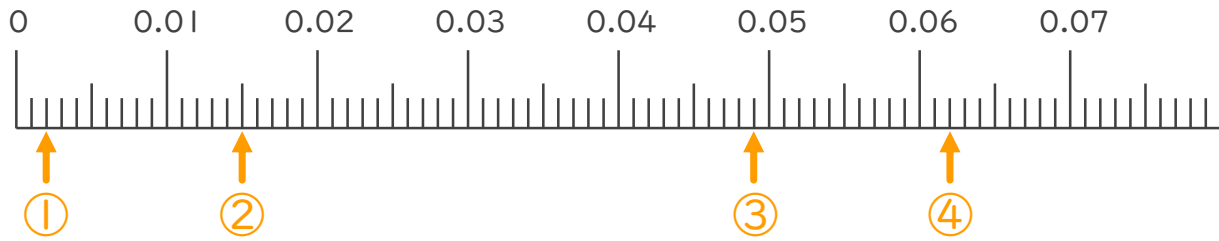


日にち： 月 日

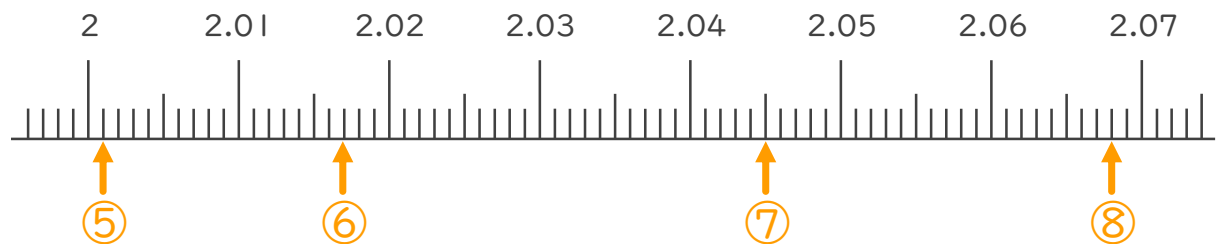
名まえ _____

1. 次の小数を表すめもりに ↑ を書きましょう。(うすい字はなぞりましょう。)

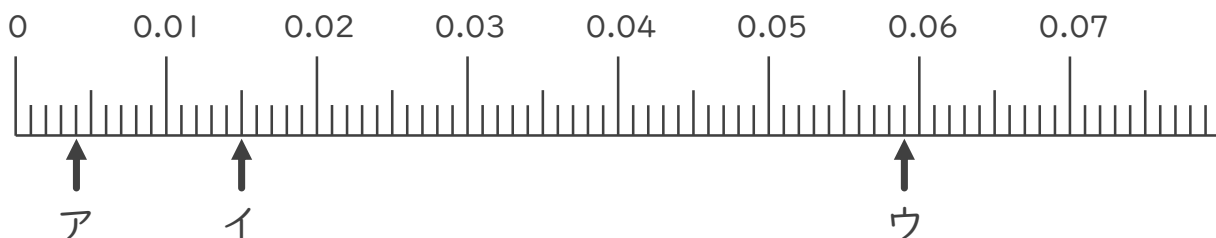
- ① 0.002 ② 0.015 ③ 0.049 ④ 0.062



- ⑤ 2.001 ⑥ 2.017 ⑦ 2.045 ⑧ 2.068



2. 次の数直線でア～ウが表す数を答えましょう。(うすい字はなぞりましょう。)



ア 0.004 イ 0.015 ウ 0.059

