

分数 12

● 整数と分数のひき算

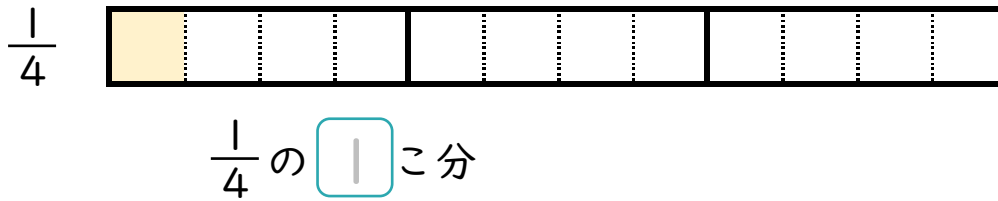
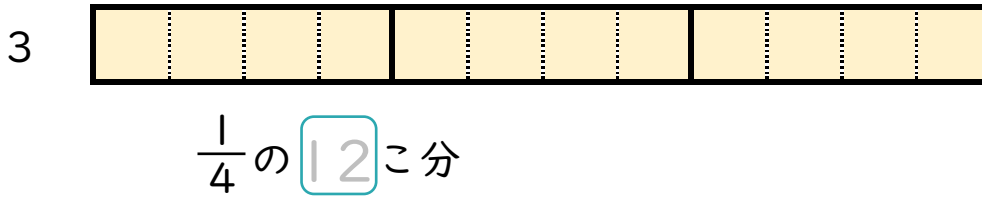


日にち： 月 日

名まえ _____

1 $3 - \frac{1}{4}$ の計算をして、答えは仮分数で表しましょう。
(うすい字はなぞりましょう。)

① 3 と $\frac{1}{4}$ は、それぞれ $\frac{1}{4}$ の何こ分ですか。



② $3 - \frac{1}{4} = \frac{12}{4} - \frac{1}{4} =$

2 次の計算をして、答えは仮分数で表しましょう。

① $3 - \frac{1}{2} = \frac{6}{2} - \frac{1}{2} =$

② $4 - \frac{3}{5} =$



分数 12

● 整数と分数のひき算



日にち： 月 日

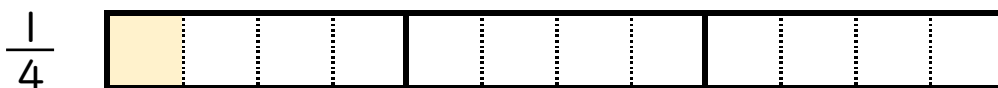
名まえ _____

1 $3 - \frac{1}{4}$ の計算をして、答えは仮分数で表しましょう。
(うすい字はなぞりましょう。)

① 3 と $\frac{1}{4}$ は、それぞれ $\frac{1}{4}$ の何こ分ですか。



$\frac{1}{4}$ の **12** こ分



$\frac{1}{4}$ の **1** こ分

② $3 - \frac{1}{4} = \frac{12}{4} - \frac{1}{4} = \frac{11}{4}$

2 次の計算をして、答えは仮分数で表しましょう。

① $3 - \frac{1}{2} = \frac{6}{2} - \frac{1}{2} = \frac{5}{2}$

② $4 - \frac{3}{5} = \frac{20}{5} - \frac{3}{5} = \frac{17}{5}$