



# 角の大きさ 00

● 時計回りの角の作図

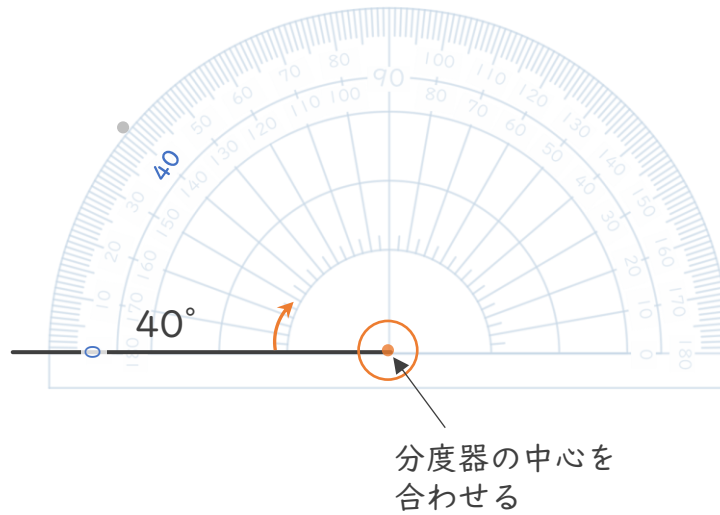


日にち：            月            日


名まえ \_\_\_\_\_

・ 次の角をかきましょう。(うすい点はなぞりましょう。)


①  $40^\circ$



②  $45^\circ$



③  $100^\circ$





# 角の大きさ 〇〇

● 時計回りの角の作図

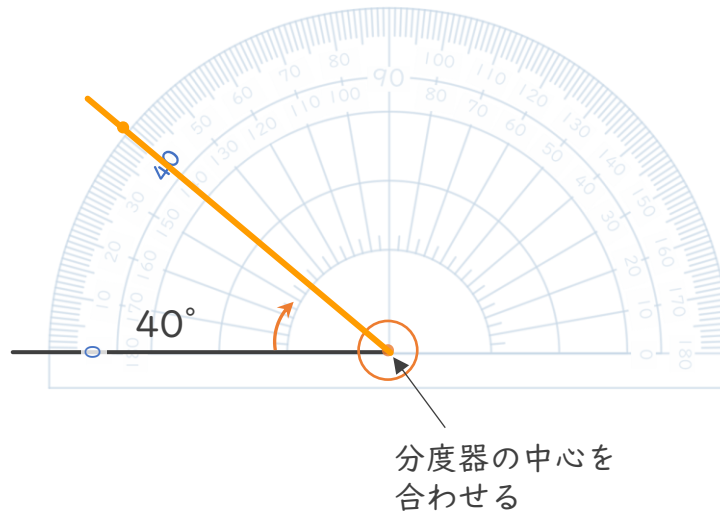


日にち：            月            日

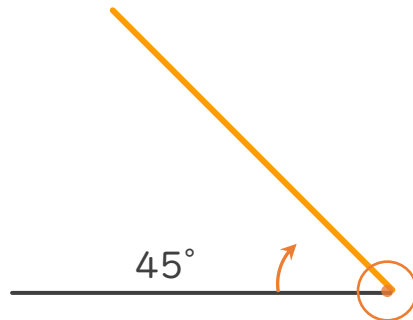
名まえ \_\_\_\_\_

・ 次の角をかきましょう。(うすい点はなぞりましょう。)

①  $40^\circ$



②  $45^\circ$



③  $100^\circ$

