



がい数の 使い方と表し方6

● 百の位までのがい数
(四捨五入)

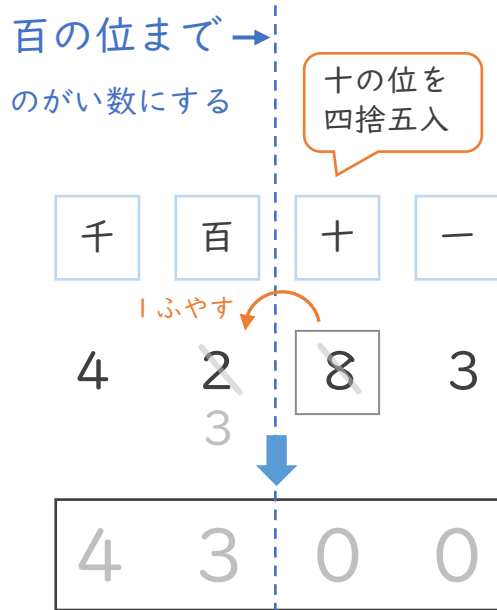


日にち： 月 日

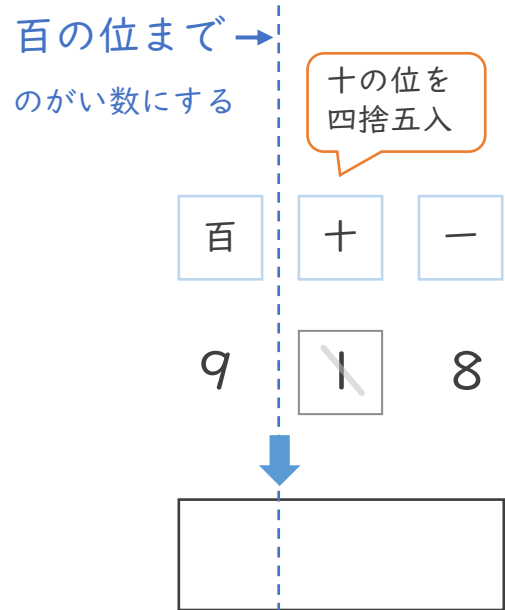
名まえ _____

- ・ 四捨五入して、百の位までのがい数で表しましょう。
(うすい字はなぞりましょう。)

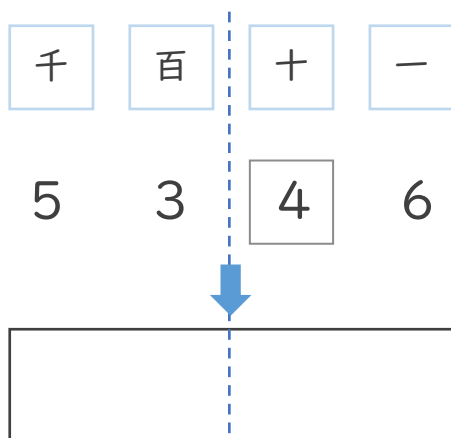
① 4283



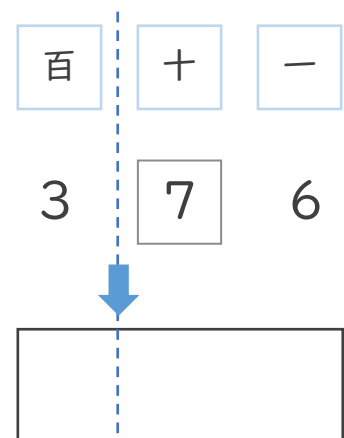
② 918



③ 5346



④ 376



1つ下の位(十の位)を
四捨五入すればいいんだね!





がい数の
使い方と表し方 6

● 百の位までのがい数
(四捨五入)

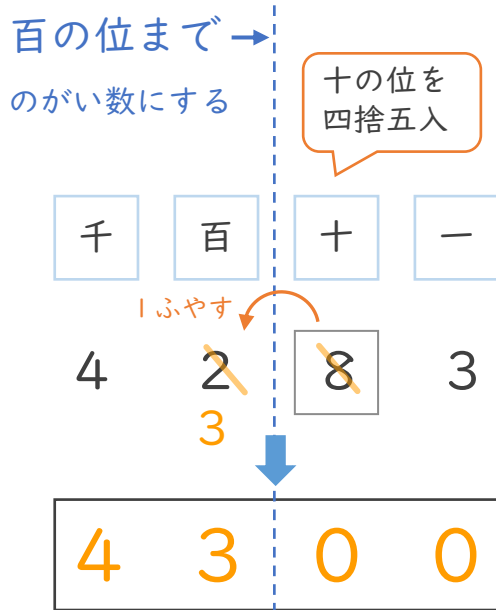


日にち： 月 日

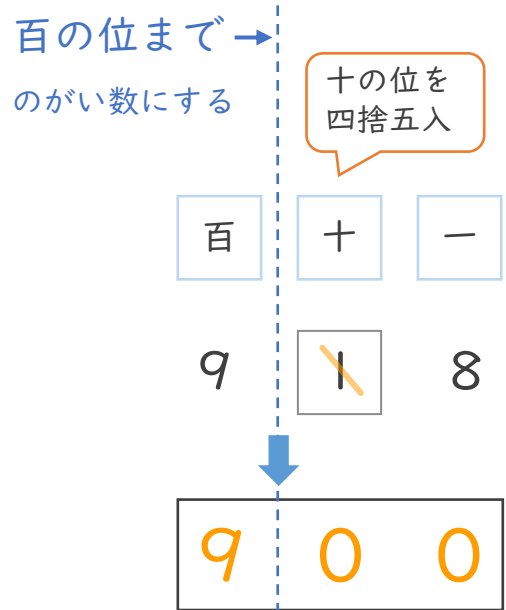
名まえ _____

- ・ 四捨五入して、百の位までのがい数で表しましょう。
(うすい字はなぞりましょう。)

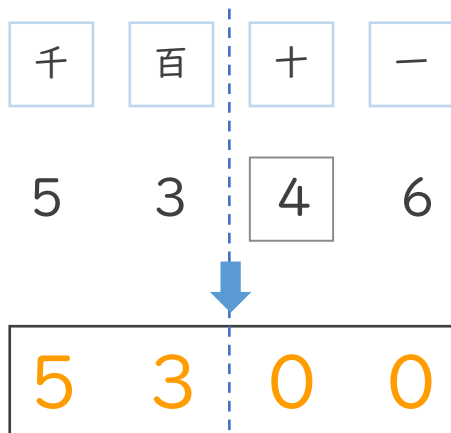
① 4283



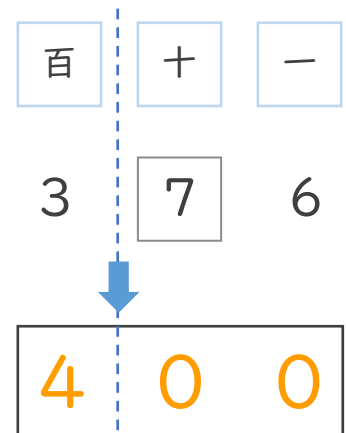
② 918



③ 5346



④ 376



1つ下の位(十の位)を
四捨五入すればいいんだね!

