



直方体や立方体 12

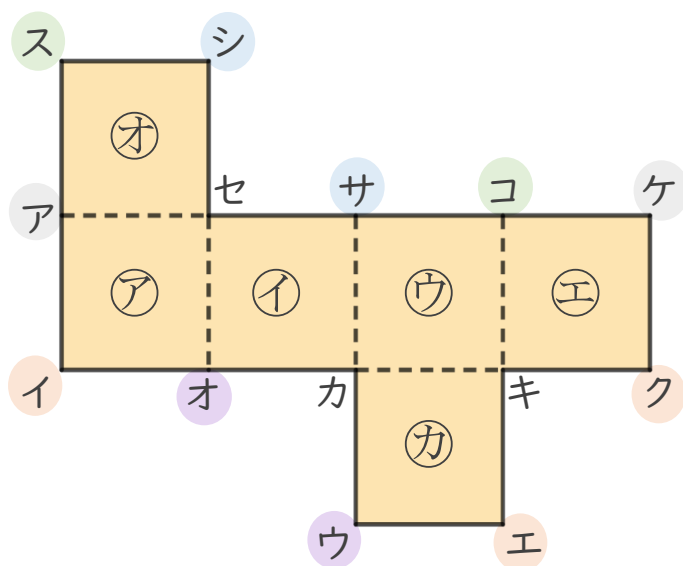


立方体の展開図

日にち： 月 日

名まえ _____

・ 下の 立方体の展開図を組み立てます。(うすい字はなぞりましょう。)



① 点シと重なる点はどれですか。

答え 点 _____

② 辺カオと重なる辺はどれですか。


答え 辺 _____

③ 面アに平行な面はどれですか。

答え _____

④ 点エと重なる点はどれですか。

答え 点イ _____



直方体や立方体 12

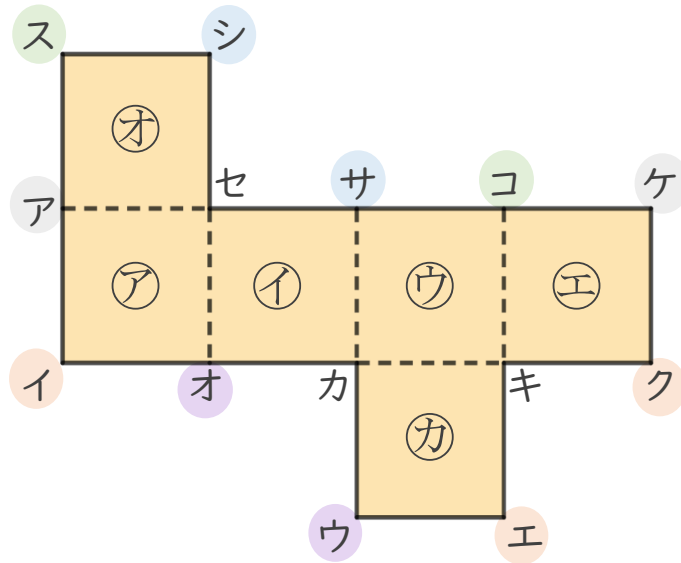


立方体の展開図

日にち： 月 日

名まえ _____

・ 下の立方体の展開図を組み立てます。(うすい字はなぞりましょう。)



① 点シと重なる点はどれですか。

答え 点サ

② 辺カオと重なる辺はどれですか。

答え 辺カウ

③ 面アに平行な面はどれですか。

答え 面ウ

④ 点エと重なる点はどれですか。

答え 点イ, 点ク