



面積の
はかり方と表し方 4

◎ 長方形や正方形の面積

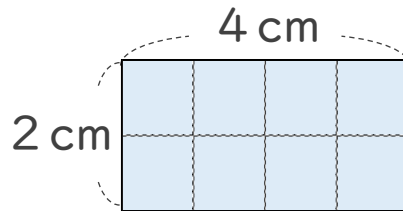


日にち： 月 日

名まえ _____

・ 次の問いに答えましょう。(うすい字はなぞりましょう。)

1 上の図の1マスは1cm²です。四角形の面積は何cm²ですか？

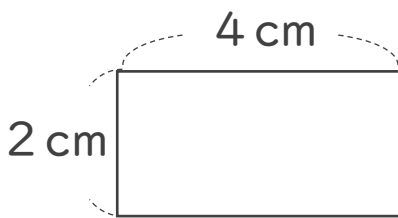


たて×横 を計算する！

式： $2 \times 4 =$

答え： _____

2 次の四角形の面積は何cm²ですか？



マス目がなくても
たて×横
を計算する！

式： $2 \times 4 =$

答え： _____



面積の はかり方と表し方 4

◎ 長方形や正方形の面積

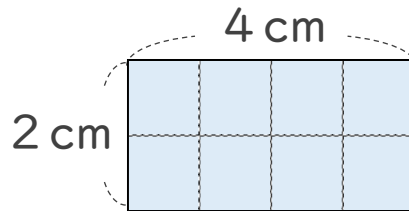


日にち： 月 日

名まえ _____

・ 次の問いに答えましょう。(うすい字はなぞりましょう。)

1 上の図の1マスは1 cm²です。四角形の面積は何cm²ですか？

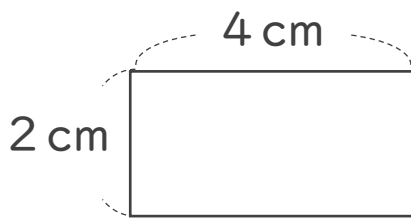


たて×横 を計算する！

式： $2 \times 4 = 8$

答え： 8 cm²

2 次の四角形の面積は何cm²ですか？



マス目がなくても
たて×横
を計算する！

式： $2 \times 4 = 8$

答え： 8 cm²