



直方体や立方体 10

● 面と面の関係
(垂直と平行)



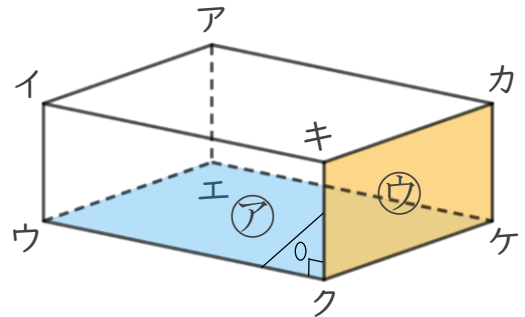
日にち： 月 日

名まえ

1 面と面の関係について調べましょう。(うすい字はなぞりましょう。)

面㊦と面㊧は垂直です。

面㊧ = 面キクケカ だよ!



☆ 面㊦と垂直な面を全部書きましょう。

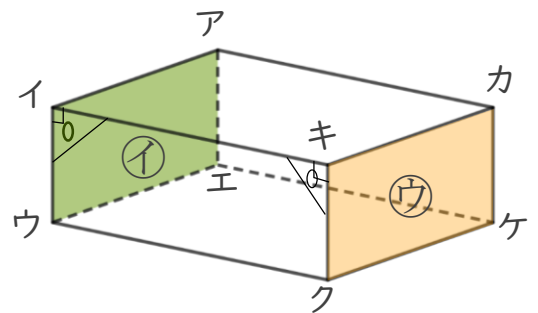
答え 面キクケカ, 面イウエア, 面 _____, 面 _____

2 面と面の関係について調べましょう。(うすい字はなぞりましょう。)

面㊨と面㊧は平行です。

面㊨ = 面イウエア

面㊧ = 面キクケカ だよ!



☆ 面アイキカと平行な面を書きましょう。

答え 面 _____



直方体や立方体 10

● 面と面の関係
(垂直と平行)

2

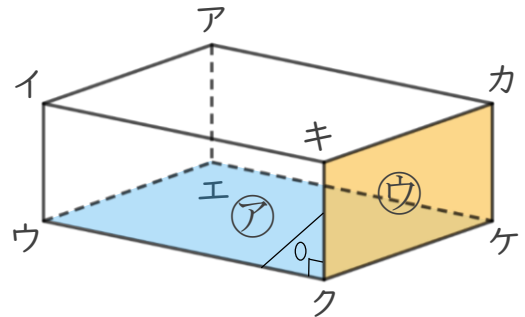
日にち： 月 日

名まえ _____

1 面と面の関係について調べましょう。(うすい字はなぞりましょう。)

面㊦と面㊧は垂直です。

面㊧ = 面キクケカ だよ!



☆ 面㊦と垂直な面を全部書きましょう。

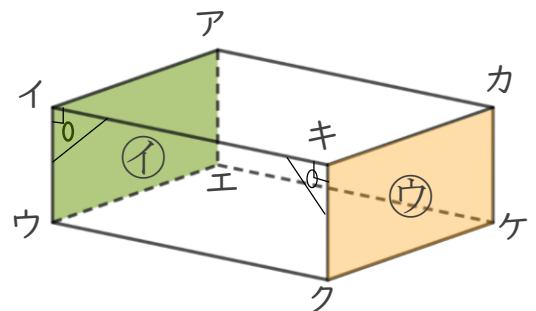
答え 面キクケカ, 面イウエア, 面イウクキ, 面アエケカ

2 面と面の関係について調べましょう。(うすい字はなぞりましょう。)

面㊨と面㊧は平行です。

面㊨ = 面イウエア

面㊧ = 面キクケカ だよ!



☆ 面アイキカと平行な面を書きましょう。

答え 面エウクケ