



面積の
はかり方と表し方10



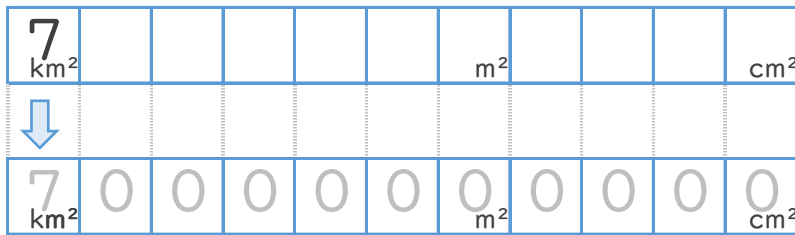
● 面積の単位変換

日にち： 月 日

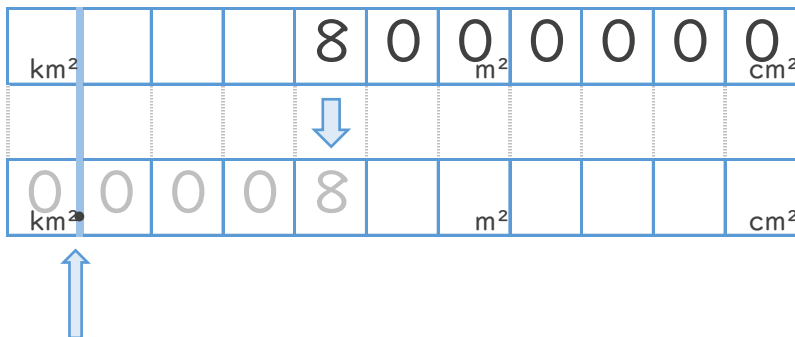
名まえ _____

・ 次の にあてはまる数を答えなさい。(うすい字はなぞりましょう。)

① $7 \text{ km}^2 =$ cm^2



② $8000000 \text{ cm}^2 =$ km^2



求めたい単位の枠に小数点！



面積の
はかり方と表し方 10



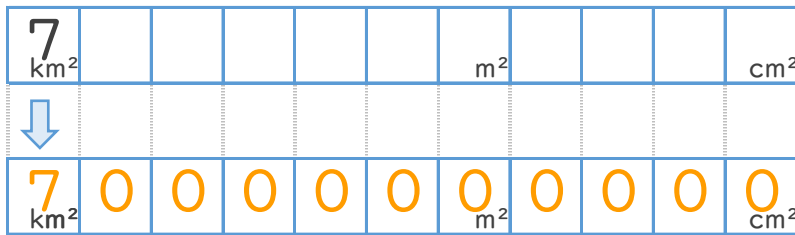
● 面積の単位変換

日にち： 月 日

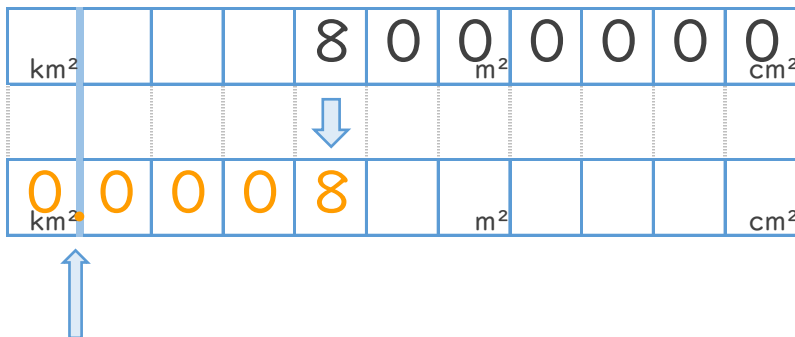
名まえ _____

・ 次の にあてはまる数を答えなさい。(うすい字はなぞりましょう。)

① $7 \text{ km}^2 =$ cm^2



② $8000000 \text{ cm}^2 =$ km^2



求めたい単位の枠に小数点！